

# Учебен център Регалия



Учебен център • Издателство • Всичко за матурите • Е-обучение • За нас

## Учебен център "Регалия" организира:

- целогодишни курсове за подготовка за зрелостни и кандидатстудентски изпити;
- целогодишни курсове за кандидатстване в езикови и профилирани гимназии по български език и математика;
- пробни изпити за кандидатстване след 7. клас;
- курсове за текуща подготовка по български език и математика за 6. клас.



На интернет страницата на Учебния център  
<http://www.regalia6.com>  
може да намерите:

[тестове за външно оценяване за 4. клас](#)

[тестове за външно оценяване за 5. клас](#)

[тестове за външно оценяване за 6. клас](#)

[тестове за външно оценяване и кандидатстване след 7. клас](#)

[конкурсни изпити за кандидатстване след 7. клас](#)

[задачи от национални състезания за 7. клас](#)

[примерни тестове за ЕПИ на УНСС](#)

[тестове за зрелостни изпити](#)

[връзки към средни училища в София](#)

[връзки към висши училища в България](#)

и още много полезна информация.

---

---

# ТЕСТ №1

---

---

Тестът включва 40 въпроса.

Време за работа 90 минути.

За всеки въпрос има 5 възможни отговора, от които само един е верен.

Съсредоточете се върху теста, внимателно прочетете условията и се постарайте да отговорите вярно на всеки въпрос.

Отбележете отговорите си върху бланката за отговори, като запълвате кръгчетата плътно, както в дадения по-долу пример:

<input type="radio"/>	<input type="radio"/>	<input checked="" type="radio"/>	<input type="radio"/>	<input type="radio"/>
-----------------------	-----------------------	----------------------------------	-----------------------	-----------------------

Внимавайте номерът на всеки въпрос, на който давате отговор, да съответства на номера на реда в бланката за отговори.

\*\*\*

След като приключите работа, сравнете вашите отговори с тези, дадени в края на теста. Вижте обясненията към въпросите, на които сте дали грешен отговор или не сте отговорили, както и на тези, за които сте дали верен отговор, но не сте съвсем наясно как сте го открили.

Най-накрая попълнете дадената оценъчна карта и пресметнете получените точки. За всеки верен отговор се получават 4 точки, а за всеки грешен се отнема 1 точка. За непълнен отговор не се дават точки.

По номерата на задачите може да се ориентирате в кои от темите правите повече грешки – тях трябва да преговорите.

### БЛАНКА ЗА ОТГОВОРИ

1.  А  Б  В  Г  Д
2.  А  Б  В  Г  Д
3.  А  Б  В  Г  Д
4.  А  Б  В  Г  Д
5.  А  Б  В  Г  Д
6.  А  Б  В  Г  Д
7.  А  Б  В  Г  Д
8.  А  Б  В  Г  Д
9.  А  Б  В  Г  Д
10.  А  Б  В  Г  Д
11.  А  Б  В  Г  Д
12.  А  Б  В  Г  Д
13.  А  Б  В  Г  Д
14.  А  Б  В  Г  Д
15.  А  Б  В  Г  Д
16.  А  Б  В  Г  Д
17.  А  Б  В  Г  Д
18.  А  Б  В  Г  Д
19.  А  Б  В  Г  Д
20.  А  Б  В  Г  Д
21.  А  Б  В  Г  Д
22.  А  Б  В  Г  Д
23.  А  Б  В  Г  Д
24.  А  Б  В  Г  Д
25.  А  Б  В  Г  Д
26.  А  Б  В  Г  Д
27.  А  Б  В  Г  Д
28.  А  Б  В  Г  Д
29.  А  Б  В  Г  Д
30.  А  Б  В  Г  Д
31.  А  Б  В  Г  Д
32.  А  Б  В  Г  Д
33.  А  Б  В  Г  Д
34.  А  Б  В  Г  Д
35.  А  Б  В  Г  Д
36.  А  Б  В  Г  Д
37.  А  Б  В  Г  Д
38.  А  Б  В  Г  Д
39.  А  Б  В  Г  Д
40.  А  Б  В  Г  Д

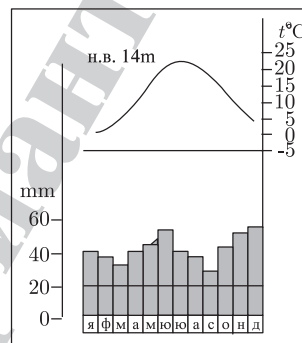
- 1. Най-вярното и най-пълно определение на географското положение на България е:**
  - А) пространствено отношение на територията на България към съседните държави
  - Б) отношения и взаимовръзки на територията на България с обекти от географското пространство, разположени извън нея
  - В) отношение на територията на България към съседните водни басейни
  - Г) отношение на територията на България към едрите релефни форми
  - Д) отношение на територията на България към световните търговски центрове
- 2. Съвременните граници и големината на територията на България са резултат от решенията на:**
  - А) Парижката мирна конференция
  - Б) Крайовската спогодба
  - В) Ньойския мирен договор
  - Г) Берлинския конгрес
  - Д) Санстефанския мирен договор
- 3. Коя от характеристиките на релефа не е вярна?**
  - А) голямо вертикално разчленение и 5 височинни пояса
  - Б) редуване на главните морфоструктури от север на юг
  - В) посока на простиране на главните морфоструктури от север-северозапад на изток-югоизток
  - Г) всички основни морфоструктури намаляват надморската си височина на изток
  - Д) средната надморска височина на територията на България е 472 m
- 4. Скалните пирамиди, каменните реки, сипеите и сипейните покрови са резултат на екзогенните процеси:**
  - А) абразия      Б) дефлация      В) изветряне      Г) ерозия      Д) денудация
- 5. Основните проблеми при добива и експлоатацията на полезните изкопаеми у нас са:**
  - А) недостатъчното количество и ниското качество на изкопаемите горива и рудните полезни изкопаеми
  - Б) екологичните проблеми, свързани с отнемане на големи площи обработваеми земи, замърсяване на въздуха, почвите и водите
  - В) недостатъчни инвестиции в развитието на минното дело
  - Г) морално и физически остаряла техника и технологии
  - Д) всичко изброено
- 6. В кой басейн не се добиват медни руди?**
  - А) Малкотърновски
  - Б) Панагюрски
  - В) Мадански
  - Г) Етрополски
  - Д) Врачански

**7. Основният фактор за формирането на климата у нас е:**

- А) географското положение на България
- Б) подстилащата повърхност (релеф, водни басейни, растителност)
- В) слънчевото греене
- Г) въздушните маси
- Д) антропогенният фактор

**8. За коя климатична област се отнася климатограмата?**

- А) умереноконтиненталната
- Б) континентално-средиземноморската
- В) преходноконтиненталната
- Г) черноморската
- Д) планинската

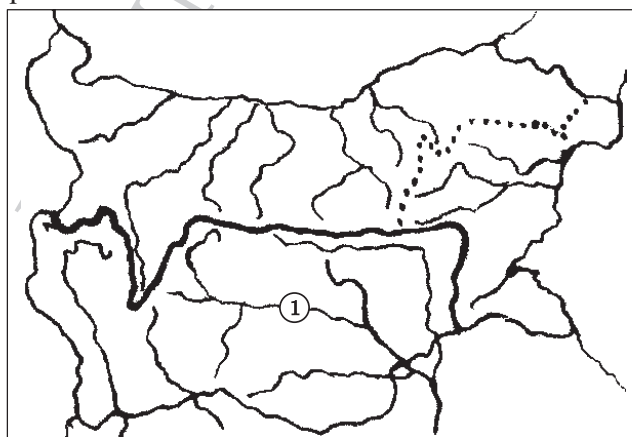


**9. Коя характеристика на водите не е вярна?**

- А) Те са един от основните компоненти на природата.
- Б) Участват в кръговрата на веществата.
- В) Носители са на топлинна и механична енергия.
- Г) Разпределени са равномерно по територията.
- Д) Представяват неизчерпаем природен ресурс.

**10. На картосхемата с цифров код 1 са обозначени териториите, които се оттичат към:**

- А) Черно море – директно
- Б) Черно море – чрез р. Дунав
- В) Егейско море
- Г) Мраморно море
- Д) Йонийско море



11. Кой от посочените компоненти на природната среда е почвообразуващ фактор?

- А) релефът и скалната основа
- Б) климатът
- В) водите
- Г) растителността
- Д) всички изброени

12. Зоната на широколистните съобщества заема:

- А) 1/2 от територията на България
- Б) 2/3 от територията на България
- В) 3/4 от територията на България
- Г) 4/5 от територията на България
- Д) 1/6 от територията на България

13. Процесът на формиране на българската народност протича:

- А) от началото на V в. до края на VI в.
- Б) от средата на VII в. до началото на X в.
- В) от началото на VIII в. до края на XI в.
- Г) от средата на IX в. до средата на XII в.
- Д) от края на IX в. до началото на XI в.

14. Естественят прираст на населението на България за 2005 г. е:

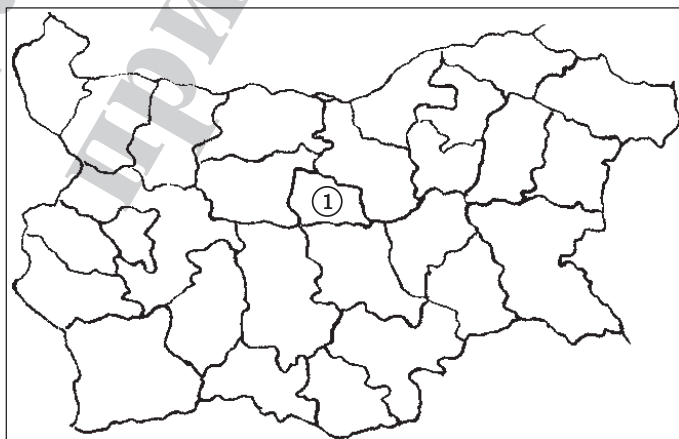
- А) 2,3‰
- Б) 1,7‰
- В) -0,4‰
- Г) -4,5‰
- Д) -5,4‰

15. В съвременния си вид селищната мрежа на България започва да се оформя през:

- А) XVI в.
- Б) XVII в.
- В) XVIII в.
- Г) XIX в.
- Д) XX в.

16. Коя от изброените области е обозначена с цифров код 1 на картосхемата?

- А) Софийска
- Б) Пловдивска
- В) Сливенска
- Г) Плевенска
- Д) Габровска



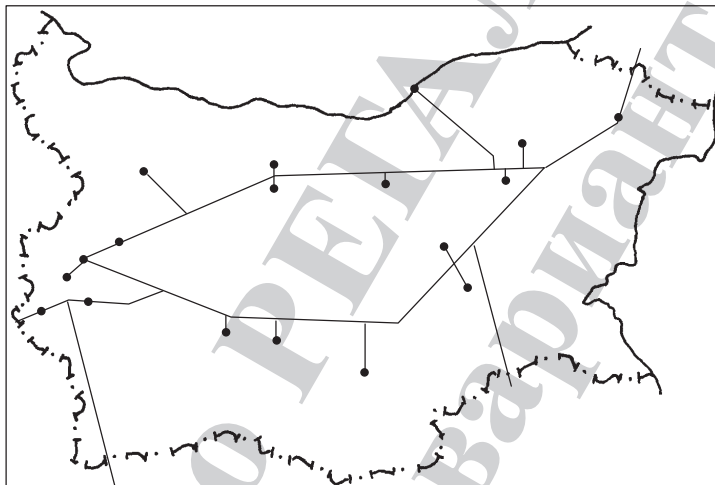
- 17. От зърненохлебните култури с най-голямо значение у нас е пшеницата. Най-благоприятни условия за отглеждането ѝ има в:**
- А) Краище
  - Б) Югозападна България
  - В) Североизточна България
  - Г) Северозападна България
  - Д) Югоизточна България
- 18. В коя група има култура, която не е техническа?**
- А) памук – тютюн
  - Б) маслодайна роза – коноп
  - В) слънчоглед – памук
  - Г) захарно цвекло – ориз
  - Д) лен – тютюн
- 19. Най-интензивният отрасъл на животновъдството е:**
- А) говедовъдството
  - Б) овцевъдството
  - В) свиневъдството
  - Г) птицевъдството
  - Д) коневъдството
- 20. Бубарството е най-добре развито в:**
- А) Плевенско – Пловдивско
  - Б) Врачанско – Хасковско
  - В) Габровско – Бургаско
  - Г) Видинско – Пернишко
  - Д) Русенско – Сливенско
- 21. През 2005 г. най-голям е делът на електроенергията, произвеждана в:**
- А) ТЕЦ      Б) ВЕЦ      В) АЕЦ      Г) ПАВЕЦ      Д) ДЕЦ
- 22. Кое от посочените находища не е на въглища?**
- А) Маришки басейн
  - Б) Пернишки басейн
  - В) Бобовдолски басейн
  - Г) Добруджански басейн
  - Д) Мадански басейн
- 23. В коя група са включени полезни изкопаеми, които не участват в металургичното производство?**
- А) манганови руди, медни руди, оловно-цинкови руди
  - Б) хромови руди, железни руди, варовици
  - В) оловно-цинкови руди, боксит, каолин
  - Г) железни руди, хромови руди, барит
  - Д) доломит, медни руди, хромови руди

- 24. Металургичният завод в гр. Кърджали произвежда:**
- А) чугун и стомана
  - Б) олово и цинк
  - В) електролитна мед
  - Г) алуминий
  - Д) изкуствени торове
- 25. Кое производство не е на органичната химия?**
- А) бензини
  - Б) синтетичен каучук
  - В) полиетилен
  - Г) азотни торове
  - Д) полиакрилни влакна
- 26. Какво количество минерални торове са произведени у нас (в хил. тона – 2004 г.)?**
- А) 288                      Б) 354                      В) 431                      Г) 529                      Д) 590
- 27. Основното значение на текстилната промишленост е:**
- А) Създава изделия с голяма социална значимост.
  - Б) Предоставя суровини за шивашката промишленост.
  - В) Използва големи количества селскостопански и химически суровини.
  - Г) Ангажира значителна част от трудовите ресурси (предимно жени).
  - Д) Всичко изброено.
- 28. Първата текстилна фабрика у нас е открита в:**
- А) София                      Б) Варна                      В) Габрово                      Г) Сливен                      Д) Пловдив
- 29. Относителният дял на хранително-вкусовата промишленост спрямо общата промишлена продукция (за 2005 г.) е:**
- А) 15,5%                      Б) 21,2%                      В) 25,7%                      Г) 29,4%                      Д) 31,3%
- 30. В коя група е включено селище, което не е център на пивоварната промишленост?**
- А) Велико Търново, Пловдив, Благоевград
  - Б) Видин, София, Хасково
  - В) Стара Загора, Мездра, Шумен
  - Г) Пловдив, Варна, Лом
  - Д) Бургас, Пловдив, София
- 31. Първата жп линия в България е линията:**
- А) Драгоман – София
  - Б) Свиленград – Пловдив
  - В) Мездра – Видин
  - Г) Русе – Варна
  - Д) Горна Оряховица – Русе



**32. Картограмата представя:**

- А) енергийната мрежа на България
- Б) газопроводния пръстен на България
- В) автомагистралния пръстен на България
- Г) основните продуктопроводи на България
- Д) нито едно от изброените



**33. Броят на чужденците, посетили нашата страна през 2005 г., е над:**

- А) 1 млн. д.
- Б) 3 млн. д.
- В) 5 млн. д.
- Г) 7 млн. д.
- Д) 9 млн. д.

**34. Туризмът се класифицира според различни показатели. При кой вид туризъм е допусната неточност?**

- А) според начина на провеждане той бива: организиран и неорганизиран
- Б) според продължителността – краткотраен, дълготраен и сезонен
- В) според мястото на провеждане – морски, планински, ловен
- Г) според целта – рекреационен, лечебен, спортен, конгресен и др.
- Д) според приходите – активен и пасивен

**35. Коя река не протича през Югозападния район?**

- А) Искър
- Б) Вит
- В) Марица
- Г) Места
- Д) Струма

**36. Населението на Югозападния район е:**

- А) над 1,5 млн. д.
- Б) над 2,1 млн. д.
- В) над 1,9 млн. д.
- Г) над 2,3 млн. д.
- Д) над 3 млн. д.

- 37. Значителните предимства за социално-икономическото развитие на Югоизточния район са свързани с:**
- А) широкия излаз на Черно море и контактната зона с Република Турция
  - Б) наличието на разнообразни полезни изкопаеми
  - В) благоприятните почвено-климатични условия
  - Г) наличието на висококвалифицирана работна ръка
  - Д) всичко изброено
- 38. Най-ниска средна гъстота на населението в Югоизточния район и в България има община:**
- А) Бургас
  - Б) Созопол
  - В) Сливен
  - Г) Малко Търново
  - Д) Айтос
- 39. Коя от алувиалните крайдунавски низини не е на територията на Северозападния район?**
- А) Видинската
  - Б) Арчаро-Орсойската
  - В) Айдемирската
  - Г) Долноцибърската
  - Д) Козлодуйско-Оряховската
- 40. При кои селища се осъществява фериботна връзка с Република Румъния?**
- А) Лом, Козлодуй
  - Б) Видин, Оряхово
  - В) Арчар, Брегово
  - Г) Кошава, Гъмзово
  - Д) Селановци, Мизия