



Учебен център "Регалия" организира:

- целогодишни курсове за подготовка за зрелостни и кандидатстудентски изпити;
- целогодишни курсове за кандидатстване в езикови и профилирани гимназии по български език и математика;
- пробни изпити за кандидатстване след 7. клас;
- курсове за текуща подготовка по български език и математика за 6. клас.



На интернет страницата на Учебния център
<http://www.regalia6.com>
може да намерите:

[тестове за външно оценяване за 4. клас](#)

[тестове за външно оценяване за 5. клас](#)

[тестове за външно оценяване за 6. клас](#)

[тестове за външно оценяване и кандидатстване след 7. клас](#)

[конкурсни изпити за кандидатстване след 7. клас](#)

[задачи от национални състезания за 7. клас](#)

[примерни тестове за ЕПИ на УНСС](#)

[тестове за зрелостни изпити](#)

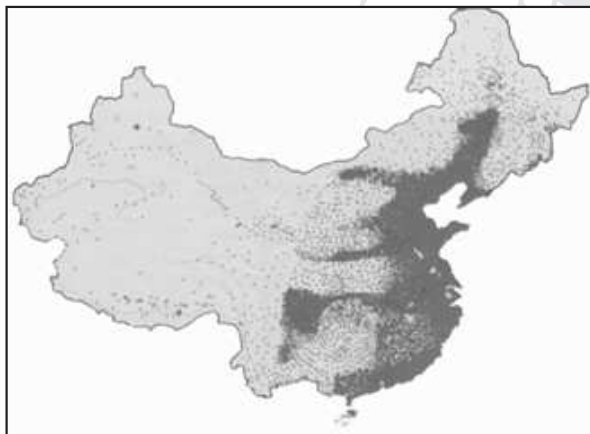
[връзки към средни училища в София](#)

[връзки към висши училища в България](#)

и още много полезна информация.

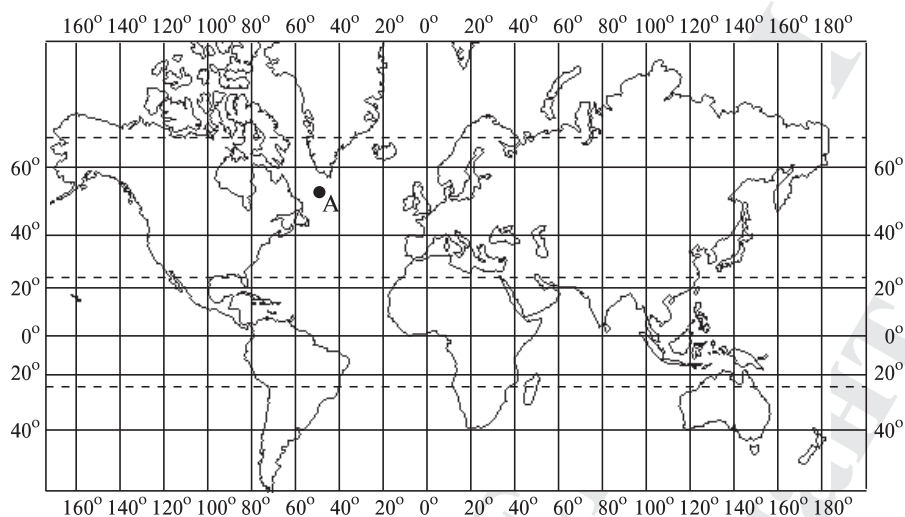
Тест № 10

1. Фернандо Магелан извършва първото околосветско пътешествие в началото на:
А) XIV в. Б) XV в. В) XVI в. Г) XVII в.
2. Ако сутрин се обърнем с лице към посоката, от която изгрява Слънцето, посоката, която остава зад гърба ни, е:
А) изток Б) запад В) север Г) юг
3. Карта с М 1:25 000 е:
А) топографска Б) дребномащабна
В) средномащабна Г) едромащабна
4. Разстоянието между две селища, нанесени на географска карта с М 1:22 000 000 е 1 см. Какво е действителното разстояние между тях?
А) 110 км Б) 220 км В) 330 км Г) 440 км
5. Върху картата от фигурата разпределението на населението на Китай е представено чрез:



- А) способа на количествения фон
- Б) способа на качествения фон
- В) способа на изолиниите
- Г) точковия способ

6. Точка А от картосхемата е разположена в:



- А) Източното и Южното полукълбо
- Б) Западното и Северното полукълбо
- В) Източното и Северното полукълбо
- Г) Западното и Южното полукълбо

7. На картосхемата с код 1 е обозначен:



- А) Тихи океан
- Б) Индийски океан
- В) Атлантически океан
- Г) Северен Ледовит (Арктически) океан

8. Заобикалянето около Слънцето, постоянният наклон на земната ос и кълбовидната форма на Земята са причина за:

- А) формата на Земята
- Б) мястото на Земята в Слънчевата система
- В) скоростта на движение на Земята около Слънцето
- Г) смяната на сезоните и различната продължителност на деня и нощта

9. Коя е вярната характеристика на биосферата на Земята?

- А) Биосферата е част от вътрешния строеж на Земята. Изградена е от всички живи организми на планетата.
- Б) Биосферата е част от външните обвивки на Земята. Изградена е от всички организми: бактерии, гъби, растения, животни и човека.
- В) Биосферата е живата обвивка на Земята. Изградена е от всички организми, водата и въздуха на Земята.
- Г) Биосферата обединява педосферата и всички организми на Земята.

10. Относителната височина на земеповърхните форми представлява:

- А) височината, измерена спрямо най-високата точка на територията
- Б) височината, измерена спрямо морското равнище
- В) височината, измерена от най-ниската до най-високата точка на формата
- Г) височината на една точка спрямо височината на друга точка

11. Коя е излишната област?

- А) Мисисипска низина
- Б) Източноевропейската равнина
- В) Карловска котловина
- Г) Амазонска низина

12. Гранитът и базалтът са:

- А) масивни скали
- Б) седиментни скали
- В) метаморфни скали
- Г) минерали

13. Кое от изброените НЕ е климатичен фактор?

- А) географската ширина
- Б) въздушните маси
- В) ветровете
- Г) водните басейни и морските течения

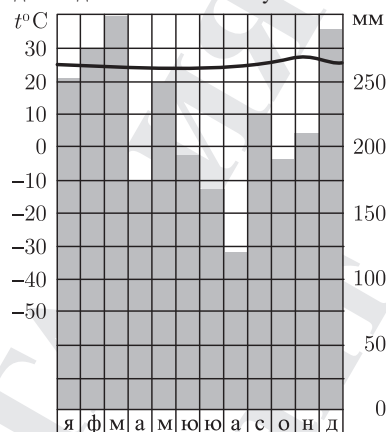
14. За кой климатичен пояс се отнася характеристиката:

„Заемат обширни територии в Северното полукълбо и малки части в Южното полукълбо. Климатът се характеризира с четири сезона. Във вътрешността на континентите зимата е студена, а лятото – сухо. В близост до океаните климатът се отличава с мека зима и прохладно лято. Пролетта и есента са преходни сезони.“

- А) тропичния климатичен пояс
- Б) поясите с умерен климат
- В) полярните климатични пояси
- Г) планинската климатична област

15. Климатограмата е на станция, разположена в:

Средногодишна температура $t^{\circ} 24,8^{\circ}\text{C}$
 Средногодишна валежна сума 2623 мм



- А) екваториалния климатичен пояс
 Б) тропичния климатичен пояс
 В) умерения климатичен пояс
 Г) полярния климатичен пояс

16. Приливите и отливите се проявяват през около:

- А) 4 часа Б) 6 часа В) 12 часа Г) 24 часа

17. Територията, от която реката събира водите си, се нарича:

- А) водосборен басейн Б) речна мрежа
 В) речна система Г) вододел

18. Червоzemните почви са разпространени в районите с:

- А) екваториален климат Б) тропичен климат
 В) умерен климат Г) полярен климат

19. Зоната на горите, зоната на степите и зоната на вътрешноконтиненталните пустини са разположени в:

- А) екваториалния климатичен пояс Б) тропичните климатични пояси
 В) умерените климатични пояси Г) полярните климатични пояси

20. Животните от фигурата обитават зоната на:



- А) влажните екваториални гори
 Б) саваните
 В) тропичните и вътрешноконтиненталните пустини
 Г) степите и лесостепите

21. Средната гъстота на населението на Земята е:

- А) 35 д./кв. км Б) 45 д./кв. км В) 55 д./кв. км Г) 65 д./кв. км

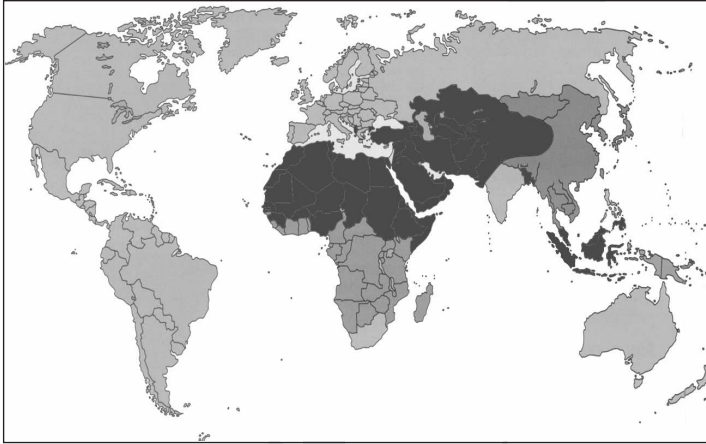
22. Мулатите спадат към:

- А) европейската раса Б) монголоидната раса
В) негроидно-австралоидната раса Г) смесената раса

23. Организацията по въпросите на образованието, науката и културата се нарича:

- А) ООН Б) НАТО В) ЮНЕСКО Г) ЕС

24. Върху картосхемата от фигурата с по-тъмен цвят са обозначени регионите, в които населението изповядва главно:



- А) християнство Б) ислям
В) будизъм Г) юдаизъм

25. Кое производство НЕ е част от вторичния сектор на стопанството?

- А) производство на електроенергия
Б) производство на тютюн
В) производство на метали
Г) производство на лекарства