

МИНИСТЕРСТВО НА ОБРАЗОВАНИЕТО, МЛАДЕЖТА И
НАУКАТА

ЦЕНТЪР ЗА КОНТРОЛ И ОЦЕНКА НА КАЧЕСТВОТО НА ОБРАЗОВАНИЕТО

№ в клас	трите имена	М	Ж	Б	Т	Р	Д
		пол (език, на който най-често се говори в семейството)					

ТЕСТ ПО ГЕОГРАФИЯ И ИКОНОМИКА ЗА V КЛАС

1. Кой мореплавател открива морски път от Европа до Индия?

- а) Вашку да Гама в) Фернандо Магелан
б) Джеймс Кук г) Христофор Колумб

2. Коя посока на хоризонта сочи винаги Полярната звезда?

- а) север б) юг в) изток г) запад

3. На $23^{\circ}27'$ ю.ш. на географската карта се намира:

- а) Северната полярна окръжност в) Северната тропична окръжност
б) Южната полярна окръжност г) Южната тропична окръжност

4. На географска карта с мащаб 1:1 000 000 разстоянието между два града е 2 см. Определете действителното разстояние между тях:

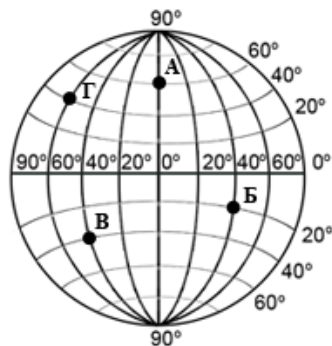
- а) 20 км б) 200 км в) 220 км г) 2000 км

5. Какъв е мащабът на едромасщабните географски карти?

- а) от 1:100 до 1:5 000 в) от 1:200 000 до 1:1 000 000
б) от 1:5 000 до 1:200 000 г) над 1:1 000 000

6. Коя точка от схемата има географски координати 40° с. ш. и 60° з. д.?

- а) т. А
б) т. Б
в) т. В
г) т. Г



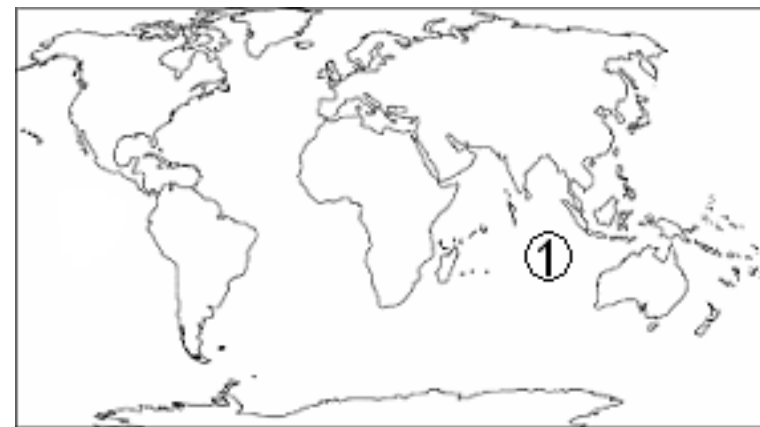
7. Какъв е строежът на Земята от центъра към повърхността?

- а) мантия, земна кора, ядро в) земна кора, ядро, мантия
б) ядро, мантия, земна кора г) ядро, земна кора, мантия

8. Кой континент на Земята е най-голям по площ?

- а) Антарктида б) Северна Америка в) Африка г) Азия

9. Кой океан е означен с цифрата 1 на картосхемата?



- а) Атлантически в) Тихи
б) Индийски г) Северен ледовит (Арктичен)

10. Релефът на Земята е резултат от действието на:

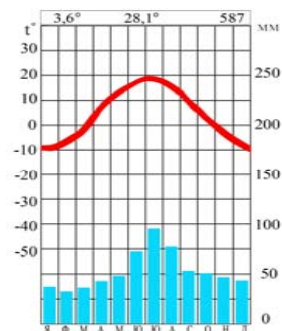
- а) вътрешните и външните земни сили
б) процесите извън планетата Земя
в) вътрешните земни сили
г) външните земни сили

11. Колко метра е относителната височина на точка Б (2100 м) спрямо точка А (800 м)?

- а) 2900 м
б) 1300 м
в) 2100 м
г) 800 м

12. За кой климатичен пояс се отнася климатограмата?

- а) екваториален
- б) тропичен
- в) умерен
- г) полярен



13. От какво зависи пълноводието на реките?

- а) речната долина
- б) растителната покривка
- в) релефа
- г) климата

14. Кое съответствие е вярно?

- а) екваториален климат – кафяви горски почви
- б) тропичен климат – пустинни почви
- в) умерен климат – латеритни почви
- г) полярен климат – черноземни почви

15. Кой от изброените животински видове е характерен за тропичните географски ширини?

- а) колибри
- б) камила
- в) тигър
- г) жираф

16. За коя природна зона се отнася следното: „Растителността е гъста, етажирана и вечно зелена. Типични са увивните растения – лиани. Животните са маймуни, папагали, змии, насекоми”?

- а) зона на екваториалните гори
- б) зона на тропичните пустини
- в) зона на горите в умерения пояс
- г) зона на полярните пустини

17. Кой природен ресурс е изчерпаем възобновим?

- а) енергия на вятъра
- б) животински свят
- в) слънчева енергия
- г) рудни полезни изкопаеми

18. За кой континент е характерна най-голяма средна гъстота на населението?

- а) Африка
- б) Северна Америка
- в) Южна Америка
- г) Азия

19. Кой от проблемите е най-характерен за селата?

- а) пренаселеност
- б) замърсяване на въздуха
- в) обезлюдяване
- г) задръствания по улиците

20. Библията е свещена книга на:

- а) християните
- б) евреите
- в) мюсюлманите
- г) будистите

21. Коя страна е монархия по форма на управление?

- а) САЩ
- б) Великобритания
- в) Русия
- г) Франция

22. НАТО е:

- а) военно-политическа организация
- б) международна организация за опазване на природата
- в) стопанска организация
- г) обединение за свободна търговия

23. Коя особеност се отнася за централно-планираното стопанство?

- а) лична инициатива на производителя
- б) цените се определят от държавните органи
- в) свободна конкуренция на пазара
- г) преобладава частната собственост

24. Кое е общото между държавите САЩ, Япония и Германия?

- а) формата на управление
- б) държавното устройство
- в) степента на икономическо развитие
- г) големината на територията

25. На кой вид географска карта са изобразени промишлени центрове в различни страни?

- а) релефна
- б) природна
- в) стопанска
- г) политическа