



## Учебен център "Регалия" организира:

- целогодишни курсове за подготовка за зрелостни и кандидатстудентски изпити;
- целогодишни курсове за кандидатстване в езикови и профилирани гимназии по български език и математика;
- пробни изпити за кандидатстване след 7. клас;
- курсове за текуща подготовка по български език и математика за 6. клас.



На интернет страницата на Учебния център  
<http://www.regalia6.com>  
може да намерите:

[тестове за външно оценяване за 4. клас](#)

[тестове за външно оценяване за 5. клас](#)

[тестове за външно оценяване за 6. клас](#)

[тестове за външно оценяване и кандидатстване след 7. клас](#)

[конкурсни изпити за кандидатстване след 7. клас](#)

[задачи от национални състезания за 7. клас](#)

[примерни тестове за ЕПИ на УНСС](#)

[тестове за зрелостни изпити](#)

[връзки към средни училища в София](#)

[връзки към висши училища в България](#)

и още много полезна информация.

---

---

# ТЕСТ №1

---

---

Тестът включва 40 въпроса.

Време за работа 90 минути.

За всеки въпрос има 5 възможни отговора, от които само един е верен.

Съсредоточете се върху теста, внимателно прочетете условията и се постарайте да отговорите вярно на всеки въпрос.

Отбележете отговорите си върху бланката за отговори, като запълвате кръгчетата плътно, както в дадения по-долу пример:

<input type="radio"/> А	<input type="radio"/> Б	<input checked="" type="radio"/> В	<input type="radio"/> Г	<input type="radio"/> Д
-------------------------	-------------------------	------------------------------------	-------------------------	-------------------------

Внимавайте номерът на всеки въпрос, на който давате отговор, да съответства на номера на реда в бланката за отговори.

\*\*\*

След като приключите работа, сравнете вашите отговори с тези, дадени в края на теста. Вижте обясненията към въпросите, на които сте дали грешен отговор или не сте отговорили, както и на тези, за които сте дали верен отговор, но не сте съвсем наясно как сте го открили.

Най-накрая попълнете дадената оценъчна карта и пресметнете получените точки. За всеки верен отговор се получават 4 точки, а за всеки грешен се отнема 1 точка. За непълнен отговор не се дават точки.

По номерата на задачите може да се ориентирате в кои от темите правите повече грешки – тях трябва да преговорите.

### БЛАНКА ЗА ОТГОВОРИ

1. (А) (Б) (В) (Г) (Д)      21. (А) (Б) (В) (Г) (Д)
2. (А) (Б) (В) (Г) (Д)      22. (А) (Б) (В) (Г) (Д)
3. (А) (Б) (В) (Г) (Д)      23. (А) (Б) (В) (Г) (Д)
4. (А) (Б) (В) (Г) (Д)      24. (А) (Б) (В) (Г) (Д)
5. (А) (Б) (В) (Г) (Д)      25. (А) (Б) (В) (Г) (Д)
6. (А) (Б) (В) (Г) (Д)      26. (А) (Б) (В) (Г) (Д)
7. (А) (Б) (В) (Г) (Д)      27. (А) (Б) (В) (Г) (Д)
8. (А) (Б) (В) (Г) (Д)      28. (А) (Б) (В) (Г) (Д)
9. (А) (Б) (В) (Г) (Д)      29. (А) (Б) (В) (Г) (Д)
10. (А) (Б) (В) (Г) (Д)      30. (А) (Б) (В) (Г) (Д)
11. (А) (Б) (В) (Г) (Д)      31. (А) (Б) (В) (Г) (Д)
12. (А) (Б) (В) (Г) (Д)      32. (А) (Б) (В) (Г) (Д)
13. (А) (Б) (В) (Г) (Д)      33. (А) (Б) (В) (Г) (Д)
14. (А) (Б) (В) (Г) (Д)      34. (А) (Б) (В) (Г) (Д)
15. (А) (Б) (В) (Г) (Д)      35. (А) (Б) (В) (Г) (Д)
16. (А) (Б) (В) (Г) (Д)      36. (А) (Б) (В) (Г) (Д)
17. (А) (Б) (В) (Г) (Д)      37. (А) (Б) (В) (Г) (Д)
18. (А) (Б) (В) (Г) (Д)      38. (А) (Б) (В) (Г) (Д)
19. (А) (Б) (В) (Г) (Д)      39. (А) (Б) (В) (Г) (Д)
20. (А) (Б) (В) (Г) (Д)      40. (А) (Б) (В) (Г) (Д)

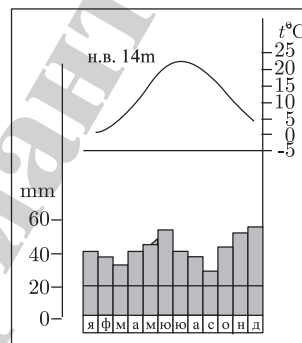
- 1. Най-вярното и най-пълно определение на географското положение на България е:**
  - А) пространствено отношение на територията на България към съседните държави
  - Б) отношения и взаимовръзки на територията на България с обекти от географското пространство, разположени извън нея
  - В) отношение на територията на България към съседните водни басейни
  - Г) отношение на територията на България към едрите релефни форми
  - Д) отношение на територията на България към световните търговски центрове
- 2. Съвременните граници и големината на територията на България са резултат от решенията на:**
  - А) Парижката мирна конференция
  - Б) Крайовската спогодба
  - В) Ньойския мирен договор
  - Г) Берлинския конгрес
  - Д) Санстефанския мирен договор
- 3. Коя от характеристиките на релефа не е вярна?**
  - А) голямо вертикално разчленение и 5 височинни пояса
  - Б) редуване на главните морфоструктури от север на юг
  - В) посока на простиране на главните морфоструктури от север-северозапад на изток-югоизток
  - Г) всички основни морфоструктури намаляват надморската си височина на изток
  - Д) средната надморска височина на територията на България е 472 m
- 4. Скалните пирамиди, каменните реки, сипеите и сипейните покрови са резултат на екзогенните процеси:**
  - А) абразия      Б) дефлация      В) изветряне      Г) ерозия      Д) денудация
- 5. Основните проблеми при добива и експлоатацията на полезните изкопаеми у нас са:**
  - А) недостатъчното количество и ниското качество на изкопаемите горива и рудните полезни изкопаеми
  - Б) екологичните проблеми, свързани с отнемане на големи площи обработваеми земи, замърсяване на въздуха, почвите и водите
  - В) недостатъчни инвестиции в развитието на минното дело
  - Г) морално и физически остаряла техника и технологии
  - Д) всичко изброено
- 6. В кой басейн не се добиват медни руди?**
  - А) Малкотърновски
  - Б) Панагюрски
  - В) Мадански
  - Г) Етрополски
  - Д) Врачански

**7. Основният фактор за формирането на климата у нас е:**

- А) географското положение на България
- Б) подстилащата повърхност (релеф, водни басейни, растителност)
- В) слънчевото греене
- Г) въздушните маси
- Д) антропогенният фактор

**8. За коя климатична област се отнася климатограмата?**

- А) умереноконтиненталната
- Б) континентално-средиземноморската
- В) преходноконтиненталната
- Г) черноморската
- Д) планинската

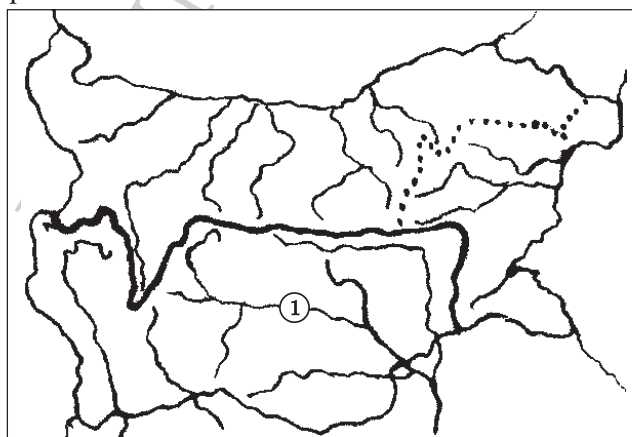


**9. Коя характеристика на водите не е вярна?**

- А) Те са един от основните компоненти на природата.
- Б) Участват в кръговрата на веществата.
- В) Носители са на топлинна и механична енергия.
- Г) Разпределени са равномерно по територията.
- Д) Представяват неизчерпаем природен ресурс.

**10. На картосхемата с цифров код 1 са обозначени териториите, които се оттичат към:**

- А) Черно море – директно
- Б) Черно море – чрез р. Дунав
- В) Егейско море
- Г) Мраморно море
- Д) Йонийско море



11. Кой от посочените компоненти на природната среда е почвообразуващ фактор?

- А) релефът и скалната основа
- Б) климатът
- В) водите
- Г) растителността
- Д) всички изброени

12. Зоната на широколистните съобщества заема:

- А) 1/2 от територията на България
- Б) 2/3 от територията на България
- В) 3/4 от територията на България
- Г) 4/5 от територията на България
- Д) 1/6 от територията на България

13. Процесът на формиране на българската народност протича:

- А) от началото на V в. до края на VI в.
- Б) от средата на VII в. до началото на X в.
- В) от началото на VIII в. до края на XI в.
- Г) от средата на IX в. до средата на XII в.
- Д) от края на IX в. до началото на XI в.

14. Естественят прираст на населението на България за 2005 г. е:

- А) 2,3‰
- Б) 1,7‰
- В) -0,4‰
- Г) -4,5‰
- Д) -5,4‰

15. В съвременния си вид селищната мрежа на България започва да се оформя през:

- А) XVI в.
- Б) XVII в.
- В) XVIII в.
- Г) XIX в.
- Д) XX в.

16. Коя от изброените области е обозначена с цифров код 1 на картосхемата?

- А) Софийска
- Б) Пловдивска
- В) Сливенска
- Г) Плевенска
- Д) Габровска

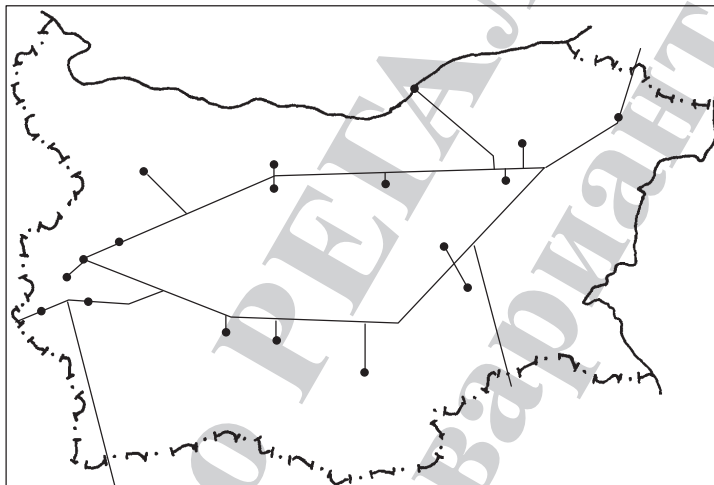


- 17. От зърненохлебните култури с най-голямо значение у нас е пшеницата. Най-благоприятни условия за отглеждането ѝ има в:**
- А) Краище
  - Б) Югозападна България
  - В) Североизточна България
  - Г) Северозападна България
  - Д) Югоизточна България
- 18. В коя група има култура, която не е техническа?**
- А) памук – тютюн
  - Б) маслодайна роза – коноп
  - В) слънчоглед – памук
  - Г) захарно цвекло – ориз
  - Д) лен – тютюн
- 19. Най-интензивният отрасъл на животновъдството е:**
- А) говедовъдството
  - Б) овцевъдството
  - В) свиневъдството
  - Г) птицевъдството
  - Д) коневъдството
- 20. Бубарството е най-добре развито в:**
- А) Плевенско – Пловдивско
  - Б) Врачанско – Хасковско
  - В) Габровско – Бургаско
  - Г) Видинско – Пернишко
  - Д) Русенско – Сливенско
- 21. През 2005 г. най-голям е делът на електроенергията, произвеждана в:**
- А) ТЕЦ      Б) ВЕЦ      В) АЕЦ      Г) ПАВЕЦ      Д) ДЕЦ
- 22. Кое от посочените находища не е на въглища?**
- А) Маришки басейн
  - Б) Пернишки басейн
  - В) Бобовдолски басейн
  - Г) Добруджански басейн
  - Д) Мадански басейн
- 23. В коя група са включени полезни изкопаеми, които не участват в металургичното производство?**
- А) манганови руди, медни руди, оловно-цинкови руди
  - Б) хромови руди, железни руди, варовици
  - В) оловно-цинкови руди, боксит, каолин
  - Г) железни руди, хромови руди, барит
  - Д) доломит, медни руди, хромови руди

- 24. Металургичният завод в гр. Кърджали произвежда:**
- А) чугун и стомана
  - Б) олово и цинк
  - В) електролитна мед
  - Г) алуминий
  - Д) изкуствени торове
- 25. Кое производство не е на органичната химия?**
- А) бензини
  - Б) синтетичен каучук
  - В) полиетилен
  - Г) азотни торове
  - Д) полиакрилни влакна
- 26. Какво количество минерални торове са произведени у нас (в хил. тона – 2004 г.)?**
- А) 288                      Б) 354                      В) 431                      Г) 529                      Д) 590
- 27. Основното значение на текстилната промишленост е:**
- А) Създава изделия с голяма социална значимост.
  - Б) Предоставя суровини за шивашката промишленост.
  - В) Използва големи количества селскостопански и химически суровини.
  - Г) Ангажира значителна част от трудовите ресурси (предимно жени).
  - Д) Всичко изброено.
- 28. Първата текстилна фабрика у нас е открита в:**
- А) София                  Б) Варна                  В) Габрово                  Г) Сливен                  Д) Пловдив
- 29. Относителният дял на хранително-вкусовата промишленост спрямо общата промишлена продукция (за 2005 г.) е:**
- А) 15,5%                  Б) 21,2%                  В) 25,7%                  Г) 29,4%                  Д) 31,3%
- 30. В коя група е включено селище, което не е център на пивоварната промишленост?**
- А) Велико Търново, Пловдив, Благоевград
  - Б) Видин, София, Хасково
  - В) Стара Загора, Мездра, Шумен
  - Г) Пловдив, Варна, Лом
  - Д) Бургас, Пловдив, София
- 31. Първата жп линия в България е линията:**
- А) Драгоман – София
  - Б) Свиленград – Пловдив
  - В) Мездра – Видин
  - Г) Русе – Варна
  - Д) Горна Оряховица – Русе

**32. Картограмата представя:**

- А) енергийната мрежа на България
- Б) газопроводния пръстен на България
- В) автомагистралния пръстен на България
- Г) основните продуктопроводи на България
- Д) нито едно от изброените



**33. Броят на чужденците, посетили нашата страна през 2005 г., е над:**

- А) 1 млн. д.
- Б) 3 млн. д.
- В) 5 млн. д.
- Г) 7 млн. д.
- Д) 9 млн. д.

**34. Туризмът се класифицира според различни показатели. При кой вид туризъм е допусната неточност?**

- А) според начина на провеждане той бива: организиран и неорганизиран
- Б) според продължителността – краткотраен, дълготраен и сезонен
- В) според мястото на провеждане – морски, планински, ловен
- Г) според целта – рекреационен, лечебен, спортен, конгресен и др.
- Д) според приходите – активен и пасивен

**35. Коя река не протича през Югозападния район?**

- А) Искър
- Б) Вит
- В) Марица
- Г) Места
- Д) Струма

**36. Населението на Югозападния район е:**

- А) над 1,5 млн. д.
- Б) над 2,1 млн. д.
- В) над 1,9 млн. д.
- Г) над 2,3 млн. д.
- Д) над 3 млн. д.

- 37. Значителните предимства за социално-икономическото развитие на Югоизточния район са свързани с:**
- А) широкия излаз на Черно море и контактната зона с Република Турция
  - Б) наличието на разнообразни полезни изкопаеми
  - В) благоприятните почвено-климатични условия
  - Г) наличието на висококвалифицирана работна ръка
  - Д) всичко изброено
- 38. Най-ниска средна гъстота на населението в Югоизточния район и в България има община:**
- А) Бургас
  - Б) Созопол
  - В) Сливен
  - Г) Малко Търново
  - Д) Айтос
- 39. Коя от алувиалните крайдунавски низини не е на територията на Северозападния район?**
- А) Видинската
  - Б) Арчаро-Орсойската
  - В) Айдемирската
  - Г) Долноцибърската
  - Д) Козлодуйско-Оряховската
- 40. При кои селища се осъществява фериботна връзка с Република Румъния?**
- А) Лом, Козлодуй
  - Б) Видин, Оряхово
  - В) Арчар, Брегово
  - Г) Кошава, Гъмзово
  - Д) Селановци, Мизия