

МИНИСТЕРСТВО НА ОБРАЗОВАНИЕТО И НАУКАТА

ДЪРЖАВЕН ЗРЕЛОСТЕН ИЗПИТ ПО

ГЕОГРАФИЯ И ИКОНОМИКА

30 май 2019 г. – Вариант 1

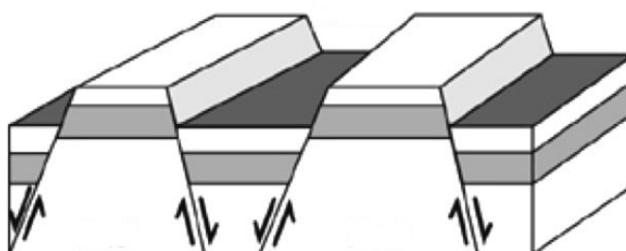
МОДУЛ 1

Време за работа – 60 минути

*Отговорите на задачите от 1. до 30. вкл. отбелязвайте в листа за отговори!*

**1. Кои структури, резултат от ендегенните релефообразуващи процеси, са представени на схемата?**

- А) антиклинала и синклинала
- Б) разлом и флексура
- В) хорст и грабен
- Г) разсед и отсед



**2. В континента Европа липсва:**

- А) природна зона на саваните
- Б) природна зона на степите
- В) природна зона на тайгата
- Г) природна зона на тундрата

**3. При кой процес, съпроводен с мъгли и слани в котловините, температурата на въздуха във височина се повишава?**

- А) кондензация
- Б) изотермия
- В) инверсия
- Г) сублимация

**4. Коя от посочените планински вериги е с най-големи запаси на фосфорити?**

- А) Алпи
- Б) Анди
- В) Апалачи
- Г) Атласки планини

**5. На кой ред всички страни се характеризират с втори тип възпроизводство – демографски взрив?**

- А) Пакистан, Судан, Великобритания
- Б) Аржентина, Танзания, Германия
- В) Нигерия, Боливия, Индия
- Г) Етиопия, Италия, Япония

**6. Коя от посочените страни е сред шестте основателки на Европейския съюз?**

- А) Австрия
- Б) Чехия
- В) Белгия
- Г) Ирландия

**7. В коя група са включени подотрасли от първичен, вторичен и третичен сектор на стопанството?**

- А) зеленчукопроизводство, овощарство, бубарство
- Б) хидроенергетика, килимарство, самолетостроене
- В) речен транспорт, образование, външна търговия
- Г) птицевъдство, металургия, международен туризъм

**8. Кое твърдение НЕ се отнася за пазарното стопанство?**

- А) Търсенето и предлагането на стоките се определят от пазара.
- Б) Има свободно движение на стоки и капитали.
- В) Има свободна конкуренция между производителите.
- Г) Държавата регулира цените на стоките.

**9. Коя от посочените двойки държави има обща граница?**

- А) Люксембург – Австрия
- Б) Швейцария – Белгия
- В) Италия – Словения
- Г) Франция – Нидерландия

**10. Земеделието на кой географски регион илюстрират снимките?**

- А) Източна Европа
- Б) Югозападна Азия
- В) Югоизточна и Южна Азия
- Г) Централна и Южна Америка



**11. За кой географски регион в света се отнася следната характеристика:**

*„Страните в региона разполагат със значителни минерални ресурси. Населението се отличава с висока раждаемост и положителен естествен прираст, като преобладава това в трудоспособна и подтрудоспособна възраст. Стопанството се основава на добивната промишленост и най-вече на развитието на някои растениевъдни отрасли.“*

- А) Западноевропейски
- Б) Източноевропейски
- В) Северноамерикански
- Г) Латиноамерикански

**12. Коя от съвременните български граници НЕ се променя според Ньойския мирен договор от 1919 г.?**

- А) със Сърбия
- Б) със Северна Македония
- В) с Гърция
- Г) с Румъния

**13. Кой трансевропейски транспортен коридор свързва Адриатическо и Черно море?**

- А) № 4
- Б) № 7
- В) № 8
- Г) № 9

14. Коя от посочените форми на релефа НЕ е резултат от екзарационните процеси?

- А) трогова долина
- Б) циркус
- В) карлинг
- Г) пещера

15. Кой от посочените видове въглища се характеризира с най-значителни запаси и има най-голямо приложение в стопанството на България?

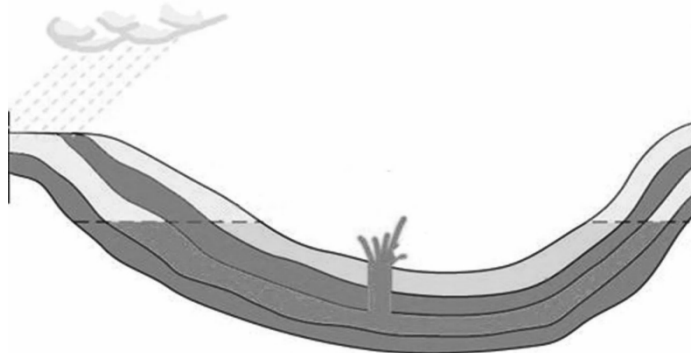
- А) лигнитни
- Б) кафяви
- В) черни
- Г) антрацитни

16. Кой южен, топъл и поривист вятър е характерен за северните склонове на Витоша, Стара планина и Родопите?

- А) фьон
- Б) борà
- В) бриз
- Г) планинско-долинен

17. Какъв тип подземни води са показани на схемата?

- А) грунтови
- Б) минерални
- В) карстови
- Г) артезиански



18. Кое от посочените езера НЕ е ледниково?

- А) Рабишко
- Б) Окото
- В) Поповото езеро
- Г) Бъбрека

**19. Кои от посочените почвени типове в България се срещат само в Северната почвено-географска зона?**

- А) канелени горски, смолници
- Б) сиви горски, черноземи
- В) канелени горски, черноземи
- Г) сиви горски, смолници

**20. В кои планини са разположени резерватите „Бистришко бранище“, „Парангалица“ и „Силкосия“?**

- А) Рила, Пирин, Витоша
- Б) Стара планина, Родопи, Странджа
- В) Витоша, Рила, Странджа
- Г) Родопи, Рила, Сакар

**21. Коя планина НЕ е част от Осоговско-Беласишката планинска редица?**

- А) Влахина
- Б) Витоша
- В) Малешевска
- Г) Огражден

**22. Коя характеристика за населението на България НЕ е вярна?**

- А) отрицателен естествен прираст
- Б) отрицателен механичен прираст
- В) висок дял на младото население
- Г) неравномерно разпределение

**23. Каква транспортна функция изпълняват селищата Лом, Козлодуй, Свищов и Русе?**

- А) речни пристанища
- Б) граждански летища
- В) железопътни възли
- Г) крайни железопътни гари

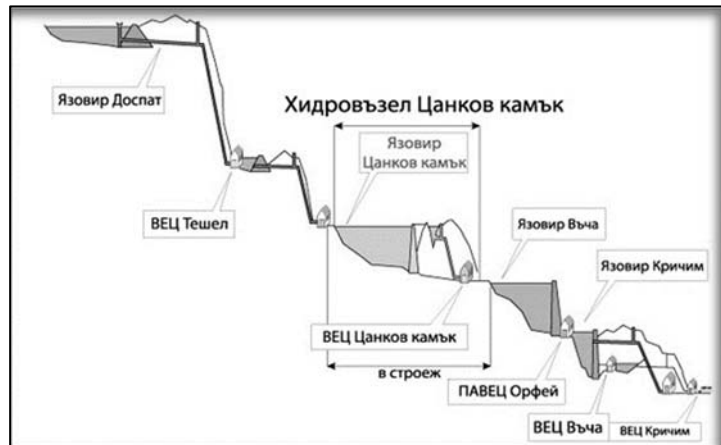
**24. За коя група земеделски култури се отнася описанието?**

*„Те са суровина за хранително-вкусовата, леката и парфюмерийно-козметичната промишленост. Използват се и за производство на лекарствени продукти и участват в износа на страната с етерични масла, захарни изделия и др.“*

- А) технически култури
- Б) трайни насаждения
- В) зърнени култури
- Г) зеленчукопроизводство

**25. Част от стопанската структура на кой географски регион в България е енергийната система, показана на схемата?**

- А) Северозападен
- Б) Югоизточен
- В) Южен централен
- Г) Югозападен



**26. Кой два географски региона свързват проходите Котленски и Върбишки?**

- А) Югоизточен със Североизточен
- Б) Южен централен със Северен централен
- В) Югозападен със Северозападен
- Г) Югозападен с Южен централен

**27. В кой от посочените географски региони има находища на гипс?**

- А) Югозападен
- Б) Северозападен
- В) Северен централен
- Г) Североизточен

**28. В кой от посочените географски региони в България има два града с население над 100 000 души?**

- А) Югозападен
- Б) Северен централен
- В) Северозападен
- Г) Югоизточен

**29. В кой географски регион са разположени туристическите обекти – Перперикон и Татул?**

- А) Югозападен
- Б) Южен централен
- В) Северен централен
- Г) Североизточен

**30. Кой областен център НЕ е в обхвата на Северен централен регион?**

- А) Русе
- Б) Търговище
- В) Силистра
- Г) Габрово