

ДЪРЖАВЕН ЗРЕЛОСТЕН ИЗПИТ ПО
ГЕОГРАФИЯ И ИКОНОМИКА

20 май 2016 г. – Вариант 1

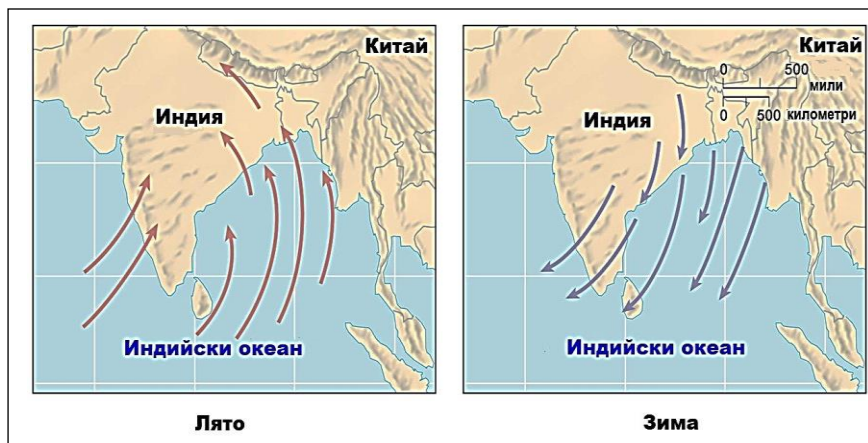
Отговорите на задачите от 1. до 30. вкл. отбелязвайте в листа за отговори!

1. Кое от географските понятия е свързано със строежа на атмосферата?

- А) литосфера
- Б) педосфера
- В) астеносфера
- Г) стратосфера

2. Сезонната ритмичност на кой от периодичните ветрове е представена на схемата?

- А) пасати
- Б) антипасати
- В) бризи
- Г) мусони



3. Изчерпаеми и възобновяеми природни ресурси са:

- А) горските ресурси
- Б) полезните изкопаеми
- В) енергията на вятъра
- Г) енергията на приливите и отливите

4. Демографският взрив е резултат от:

- А) намаляване на средната продължителност на живота
- Б) ниски и отрицателни темпове на нарастване на населението
- В) намаляване на раждаемостта
- Г) високи темпове на нарастване на населението

5. Кое от посочените твърдения изразява същността на урбанизацията?

А) Намаляване на относителния дял на градското население, на броя на градовете и разпространяване на градския начин на живот.

Б) Увеличаване на относителния дял на градското население, променяне на функциите на градовете и разпространяване на градския начин на живот.

В) Подобряване на техническата инфраструктура на селата и промяна на функциите им.

Г) Увеличаване на броя на населението в територията на дадена страна и намаляване на броя на населението в територията на друга страна.

6. Коя република е федеративна по форма на държавно устройство?

А) Бразилия

Б) Канада

В) Испания

Г) Унгария

7. Картограмата изобразява страните членки на Европейския съюз към:



А) 2001 г.

Б) 2004 г.

В) 2007 г.

Г) 2014 г.

8. При кой тип стопанство решенията за производство се взимат в зависимост от регулиращата роля на пазара, в условията на конкуренция и свободна лична инициатива?

А) централизирано

Б) пазарно

В) натурално

Г) аграрно

9. Как се нарича разликата между електроенергията, която се добива, и тази, която се консумира?

- А) енергетика
- Б) електропреносна мрежа
- В) енергиен баланс
- Г) електропроизводство

10. Подотрасъл на леката промишленост е:

- А) електрониката
- Б) бубарството
- В) целулозно-хартиената
- Г) килимарството

11. Коя от посочените характеристики за Япония НЕ е вярна?

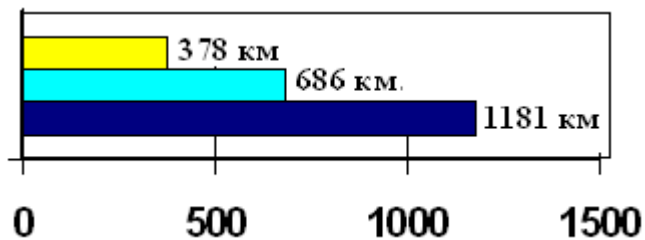
- А) голяма средна гъстота на населението
- Б) висока сеизмичност
- В) нисък естествен прираст
- Г) големи и разнообразни минерални ресурси

12. Кой природен риск е изобразен на снимката?



- А) озонова дупка
- Б) земетресение
- В) наводнение
- Г) опустиняване

13. На диаграммата е показана дължината на видовете държавни граници на България. Кой вид има най-голяма дължина?



- А) водните
- Б) морските
- В) речните
- Г) сухоземните

14. Според кой международен договор е показаната територия на България?



- А) Ньойския договор
- Б) Крайовската спогодба
- В) Санстефанския договор
- Г) Букурещкия договор

15. Свладищата са следствие от проявата на:

- А) денудационно-гравитационните процеси
- Б) изветрително-денудационните процеси
- В) карстовите процеси
- Г) дефлационните процеси

16. В коя група находища НЕ се добиват руди на цветни метали?

- А) Медет, Елаците, Мадан
- Б) Кремиковци, Мартиново, Крумово
- В) Маджарово, Лъки, Гюешево
- Г) Граматиково, Златоград, Рудозем

17. Посочете климатичната област, в която попада Старозагорското поле:

- А) умереноконтинентална
- Б) преходноконтинентална
- В) континентално-средиземноморска
- Г) черноморска

18. В коя от двойките „отточна област – реки“ е допусната грешка?

- А) Черноморска – Искър, Вит, Осъм, Камчия
- Б) Черноморска – Янтра, Русенски Лом, Айтоска, Двойница
- В) Егейска – Тунджа, Марица, Камчия, Велека
- Г) Егейска – Марица, Тунджа, Места, Струма

19. Сивите горски почви са разпространени в Предбалкана и високите части на:

- А) Дунавска равнина
- Б) Средна гора
- В) Витоша
- Г) Западни Родопи

20. Голямото видово разнообразие на растенията и животните в България се обуславя от:

- А) икономогеографското положение
- Б) политикогеографското положение
- В) природогеографското положение
- Г) транспортногеографското положение

21. При коя от двойките „котловина – местоположение“ има несъответствие?

- А) Пернишка котловина – долина на р. Искър
- Б) Казанлъшка котловина – долина на р. Тунджа
- В) Гоцеделчевска котловина – долина на р. Места
- Г) Санданско-Петричка котловина – долина на р. Струма

22. Процесът на раздържавяване и увеличаване на частната собственост се нарича:

- А) инфлация
- Б) приватизация
- В) национализация
- Г) колективизация

23. Коя от посочените особености се отнася за възрастовата структура в България?

- А) висок дял на младото население
- Б) демографско остаряване на населението
- В) дялът на възрастното население намалява
- Г) влошена възрастова структура в столицата

24. Кои съвременни български градове са носили имената Бонония и Сексагинта Приста?

- А) Лом и Свищов
- Б) Монтана и Ловеч
- В) Бургас и Поморие
- Г) Видин и Русе

25. Коя от посочените групи земеделски култури е типична за Добруджа?

- А) ечемик, памук, хмел
- Б) пшеница, зеленчуци, фъстъци
- В) захарно цвекло, ориз, сусам
- Г) пшеница, царевица, слънчоглед

26. В кой от посочените градове е развита фармацевтичната промишленост?

- А) Свищов
- Б) Разград
- В) Велинград
- Г) Добрич

27. Чипровци, Сливен и Котел са центрове на:

- А) производството на растителни масла
- Б) килимарството
- В) целулозно-хартиената промишленост
- Г) производството на безалкохолни напитки

28. Кое твърдение за транспорта в България е вярно?

- А) Автомагистрала „Тракия“ свързва градовете Плевен и Шумен.
- Б) Тръбопроводният транспорт е най-младият вид транспорт.
- В) Първата жп линия е построена след Освобождението.
- Г) Най-големите речни пристанища са Видин и Белене.

29. Кое от твърденията, свързани със стопанската специализация на Югозападния регион, е вярно?

- А) Съотношението между промишлената и земеделската продукция е 15:75.
- Б) Земеделската специализация е свързана с отглеждането на зърнени и етерично-маслодайни култури.
- В) Водещо значение за вътрешнорегионалните връзки има железопътния транспорт.
- Г) Езерата с ледников произход в Рила и Пирин са ресурс за развитието на туризма.

30. В териториалния обхват на коя административна област попадат градовете Панагюрище, Батак и Пещера?

- А) Пазарджишка
- Б) Пловдивска
- В) Благоевградска
- Г) Смолянска

Отговорите на задачи от 31. до 38. вкл. запишете в свитъка за свободните отговори!

31. В свитъка за свободните отговори напишете за коя природна зона в света се отнася следното описание:

„Природната зона заема най-северните части на Европа, Азия и Северна Америка. Има дълга и студена зима, а лятото е кратко и прохладно. Растителността е представена от лишей и мъхове.“

32. В свитъка за свободните отговори напишете името на сектора, към който се отнася отрасълът:

ПЪЛЕН ПРОИЗВОДСТВЕН ЦИКЪЛ



33. В свитъка за свободните отговори напишете името на географския регион, в който се намира държавата, за която се отнася следната географска характеристика:

„Страната е богата на полезни изкопаеми – въглища, нефт, руди на черни и цветни метали. По брой на населението и по площ заема челни места в света. Родина е на една от най-древните цивилизации, а през последните две десетилетия има най-висок темп на икономически растеж в света.“

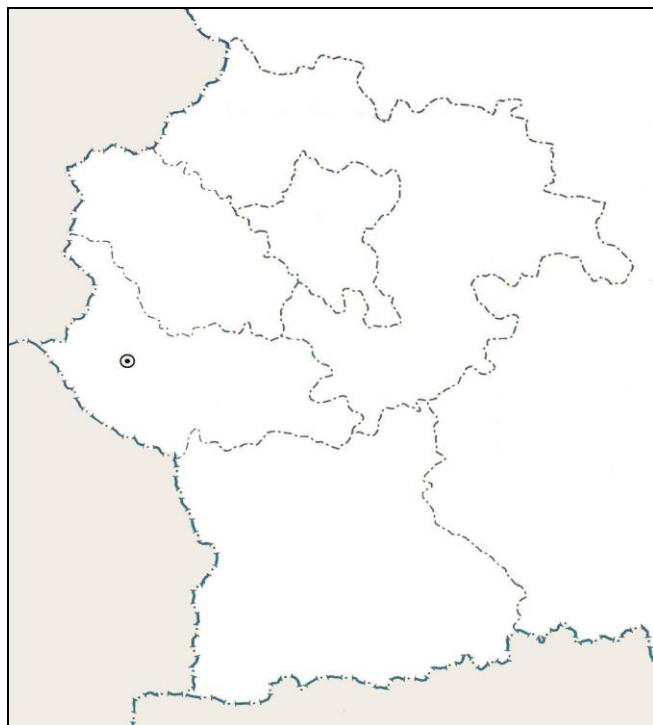
34. В свитъка за свободните отговори напишете наименованието на природно-географската област, в обхвата на която са разположени Урдините езера, връх Орелек, Баташка планина, конусовидното възвишение Кожух, Триградското ждрело и пещерата Дяволското гърло.

35. В свитъка за свободните отговори срещу номера от 1 до 3 вкл. поставете посочените градове според броя на населението им към 2011 година.

Градове: Ловеч, Стара Загора, Добрич

Брой на населението	Градове
1. над 100 хил. души	
2. от 50 до 100 хил. души	
3. под 50 хил. души	

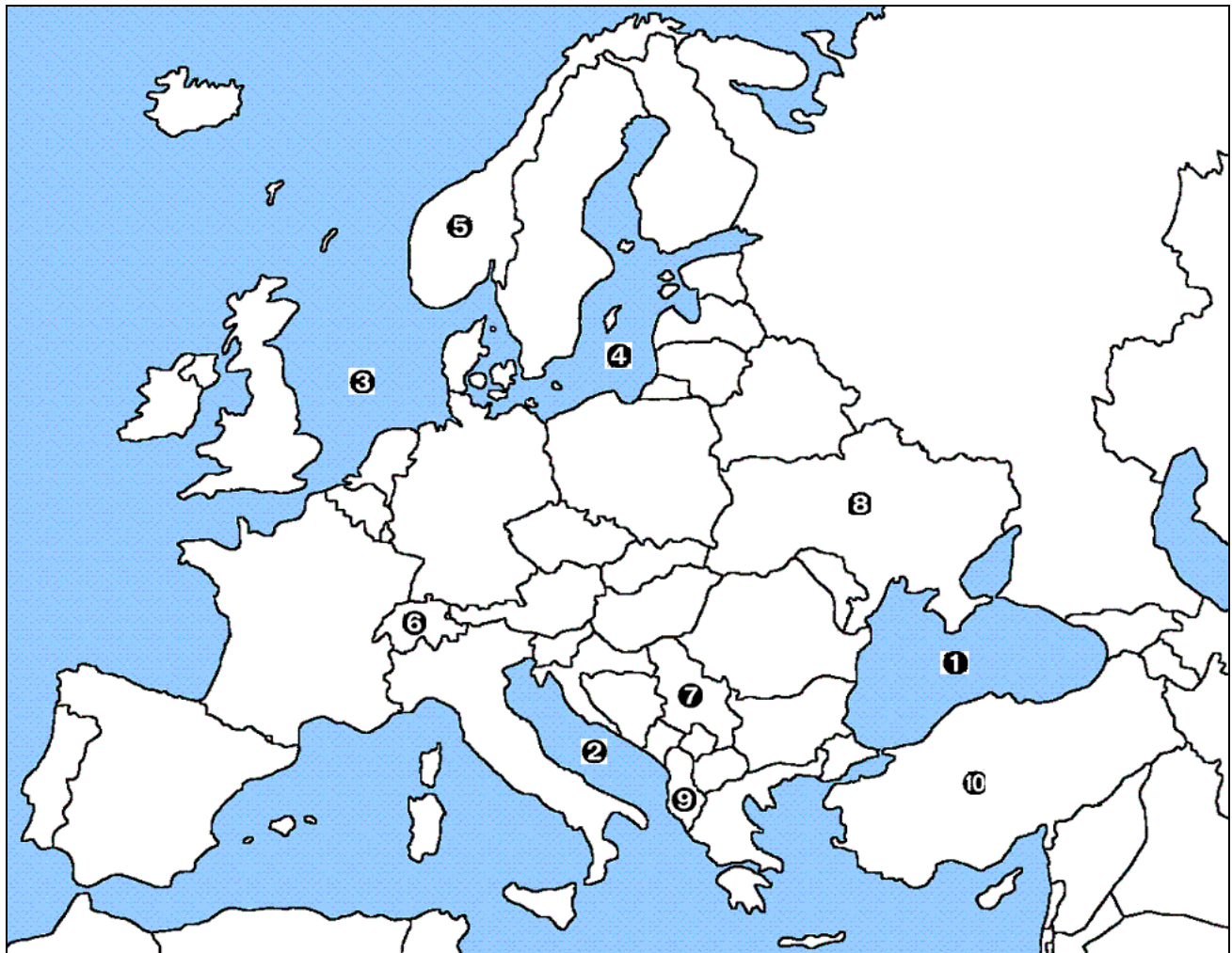
36. В свитъка за свободните отговори напишете кой е обозначеният град на картосхемата на Югозападния регион.



На практическите задачи 37. и 38. вкл. отговорете в свитъка за свободните отговори!

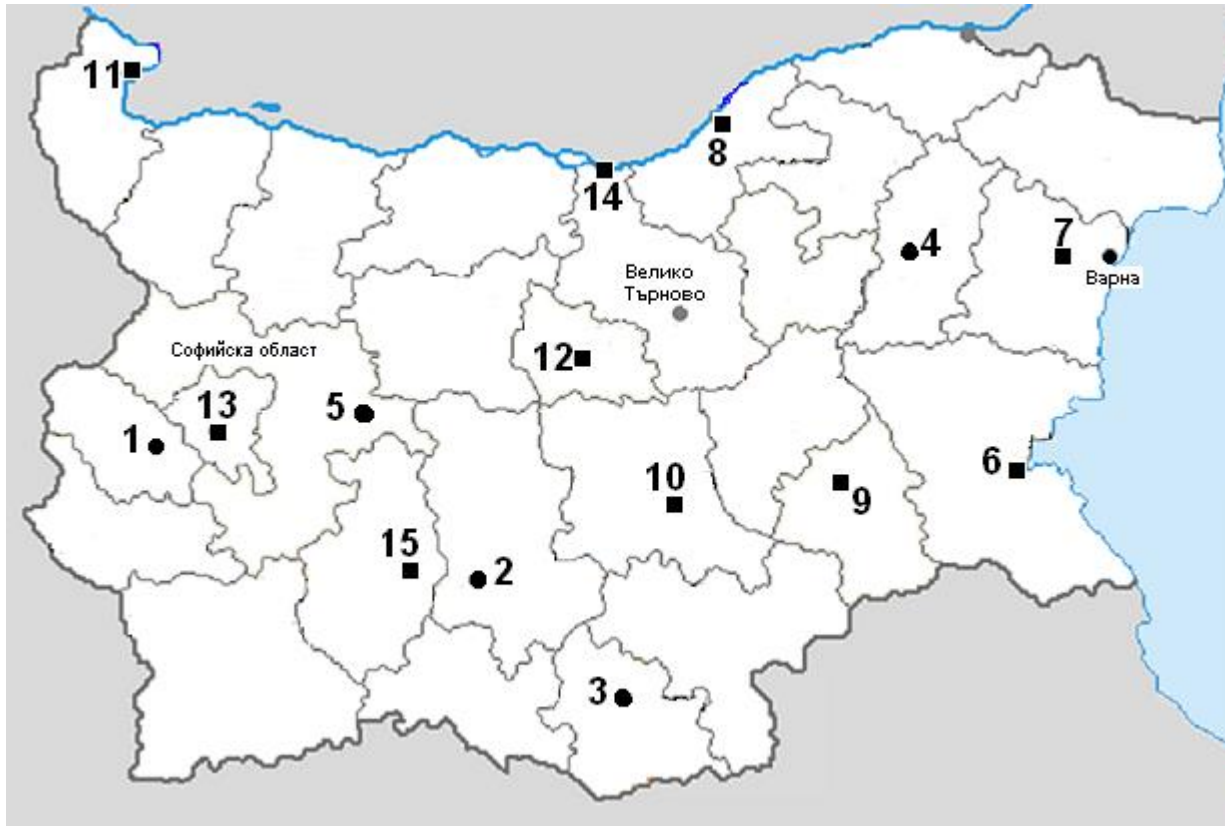
37. Практическа задача по география на света

В свитъка за свободните отговори срещу номера от 1 до 4 напишете наименованията на водните обекти, а от 5 до 10 наименованията на държавите, които НЕ са страни членки на Европейския съюз.



38. Практическа задача по география на България

В свитъка за свободните отговори срещу номера от 1 до 5 напишете имената на градовете – центрове на металургията в България, а от 6 до 15 – градовете – центрове на химическата промишленост.



Писмената разработка напишете в свитъка за свободните отговори на предвиденото за това място!

Характеристика на Северозападен регион

А) Географско положение, граници и големина

Б) Характеристика и оценка на природните условия и ресурси:

- релеф
- полезни изкопаеми
- климат
- води
- почви
- растителност и животински свят

В) Население