

ДЪРЖАВЕН ЗРЕЛОСТЕН ИЗПИТ ПО

ГЕОГРАФИЯ И ИКОНОМИКА

31 август 2012 г. – Вариант 2

Отговорите на задачите от 1. до 30. вкл. отбелязвайте в листа за отговори!

1. Седиментните скали се образуват при:

- А) изстиване на магма в земната кора
- Б) потъване в дълбочина и под влияние на висока температура и налягане
- В) отлагане на скални частици и органични останки във водните басейни
- Г) изстиване на магма на повърхността на земната кора

2. Посочете вярната географска закономерност:

- А) озоновият слой е разположен в стратосферата
- Б) барханите са резултат от абразионната дейност
- В) климатичните пояси са азонално проявени
- Г) циркусите имат карстов произход

3. Коя от характеристиките за водите на Световния океан се измерва в промили и има средна стойност 35‰?

- А) температурата в дълбочина
- Б) солеността
- В) съдържанието на кислород
- Г) прозрачността

4. Ждрелата и проломите са форми на релефа, характерни за:

- А) равнините
- Б) планините
- В) котловинните дъна
- Г) низините

5. Демографският проблем в развиващите се страни се изразява в:

- А) намаляване на раждаемостта
- Б) увеличаване на броя на населението
- В) засилване на имиграциите
- Г) отрицателен естествен прираст

6. В коя от посочените двойки „държава – форма на управление“ има несъответствие?

- А) Чехия – монархия
- Б) Румъния – република
- В) Дания – монархия
- Г) Унгария – република

7. Коя от посочените държави се характеризира с висока степен на урбанизираност?

- А) Индия
- Б) Япония
- В) Египет
- Г) Бангладеш

8. Коя група от градове представлява т.нар. „финансова ос” на света?

- А) Париж – Женева – Стокхолм
- Б) Нью Йорк – Лондон – Токио
- В) Рим – Берн – Пекин
- Г) Москва – Шанхай – Сан Франциско

9. В кой географски регион в света НЕ се развива пазарно стопанство до 1989 година?

- А) Северноамерикански
- Б) Източноевропейски
- В) Западноевропейски
- Г) Австралийски

10. В коя от посочените двойки „държава – специализиращ отрасъл” има несъответствие?

- А) Канада – копринено-текстилна промишленост
- Б) Китай – порцеланово-фаянсовата промишленост
- В) Аржентина – кожаро-кожухарска промишленост
- Г) Норвегия – рибноконсервната промишленост

11. Кое от посочените природни бедствия НЕ е предизвикано само от метеорологични климатични процеси?

- А) засушаване
- Б) ураган
- В) цунами
- Г) градушка

12. Коя крайна точка на България е с географски координати $41^{\circ} 14'$ с.ш. и $25^{\circ} 17'$ и.д.?

- А) връх Вейката
- Б) нос Шабла
- В) връх Китка
- Г) устието на река Тимок

13. С подписването на кой международен договор от територията на България е отнета Южна Добруджа?

- А) Санстефански договор
- Б) Берлински договор
- В) Букурещки договор
- Г) Ньойски договор

14. Кой ГКПП НЕ е разположен на границата между България с Македония?

- А) Златоград
- Б) Златарево
- В) Логодаж (Станке Лисичково)
- Г) Гюешево

15. Как се нарича рушителната дейност на временно и постоянно течащата вода?

- А) ерозия
- Б) абразия
- В) екзарация
- Г) дефлация

16. В коя двойка „ находище – полезно изкопаемо” има несъответствие?

- А) Долни Дъбник – нефт
- Б) Лъки – оловно-цинкова руда
- В) Елаците – манганова руда
- Г) Ветово – каолин

17. Коя е най-дългата българска река, която се влива директно в Черно море?

- А) Велека
- Б) Ропотамо
- В) Камчия
- Г) Резовска

18. Коя от посочените територии НЕ попада в обхвата на континентално-средиземноморската климатична област?

- А) Санданско-Петричка котловина
- Б) Източни Родопи
- В) Западни Родопи
- Г) Гоцеделчевска котловина

19. Кое от посочените твърдения за разпространението на почвите в България НЕ е вярно?

- А) Кафявите горски почви са типични за планинските райони.
- Б) Черноземите са разпространени в Дунавската равнина.
- В) Жълтоземните почви са разпространени само в поречието на река Велека.
- Г) Сивите горски почви са характерни за Горнотракийската низина.

20. В териториалния обхват на коя природногеографска област се включват Провадийското и Шуменското плато?

- А) Дунавска равнина
- Б) Старопланинска
- В) Краищенско-Средногорска
- Г) Рило-Родопска

21. В коя природногеографска област се намира точката с най-ниска надморска височина в България?

- А) Горнотракийска низина
- Б) Черноморско крайбрежие
- В) Дунавска равнина
- Г) Задбалкански котловини

22. Населението на коя от посочените територии в България се отличава с най-големи възпроизводствени възможности?

- А) Северозападна България
- Б) Краище
- В) Сакар – Странджа
- Г) Североизточна България

23. Кои основни функции обединяват селищата Банкя, Хисаря, Вършец и Сапарева баня?

- А) транспортни
- Б) промишлени
- В) земеделски
- Г) балнеоложки

24. Отглеждането на кайсии е типично за района на:

- А) Сливен
- Б) Пловдив
- В) Силистра
- Г) Кюстендил

25. Кой фактор е определящ за териториалното разположение на ТЕЦ „Марица Изток” I, II, III?

- А) голямото потребление на електрическа енергия
- Б) добивът на лигнитни въглища
- В) големият брой трудови ресурси
- Г) наличието на големи водни ресурси

26. Центрове на речно корабостроене в България са:

- А) Русе и Тутракан
- Б) Видин и Лом
- В) Свищов и Оряхово
- Г) Силистра и Видин

27. В коя двойка „град – промишлена специализация” има несъответствие?

- А) Девня – соди
- Б) Пловдив – консерви
- В) Кюстендил – пиво
- Г) Бургас – нефтопродукти

28. Коя автомагистрала е продължение на „Тракия” в посока за Република Турция?

- А) „Хемус”
- Б) „Люлин”
- В) „Струма”
- Г) „Марица”

29. В кой географски регион на България се намират Баташкият водносилов път, каскадите Белмекен-Сестримо и р. Вьча?

- А) Югозападен
- Б) Североизточен Придунавски
- В) Западен Тракийско-Родопски
- Г) Северен Централен

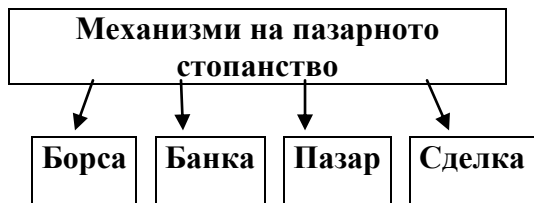
30. Коя свободна икономическа зона НЕ е разположена по пътя на транспортен коридор № 10?

- А) Драгоман
- Б) Свиленград
- В) Пловдив
- Г) Русе

Отговорите на задачи от 31. до 38. вкл. запишете в свитъка за свободните отговори!

31. На схемата са отбелязани основните механизми на пазарното стопанство. В свитъка за свободните отговори допишете пропуснатото в изречението:

„Цените на стоките и услугите се определят от производствените разходи и от – в зависимост от търсенето и предлагането.“



32. В свитъка за свободните отговори напишете пропуснатите в схемата три вида неизчерпаеми природни ресурси!



33. В свитъка на свободните отговори напишете коя държава от Източноевропейския регион прави изключение от отрицателните за региона стойности на естествения прираст, отличава се с висока раждаемост и стабилен положителен естествен прираст.

34. В свитъка за свободните отговори напишете за коя планина в България са характерни растителните видове източен бук, лавровишня и зеленика.

35. В свитъка за свободните отговори срещу номера от 1 до 3 вкл. поставете града, който се отнася към посочените областни центрове.

Областни центрове	Град
1. Пернишка	
2. Кюстендилска	
3. Благоевградска	

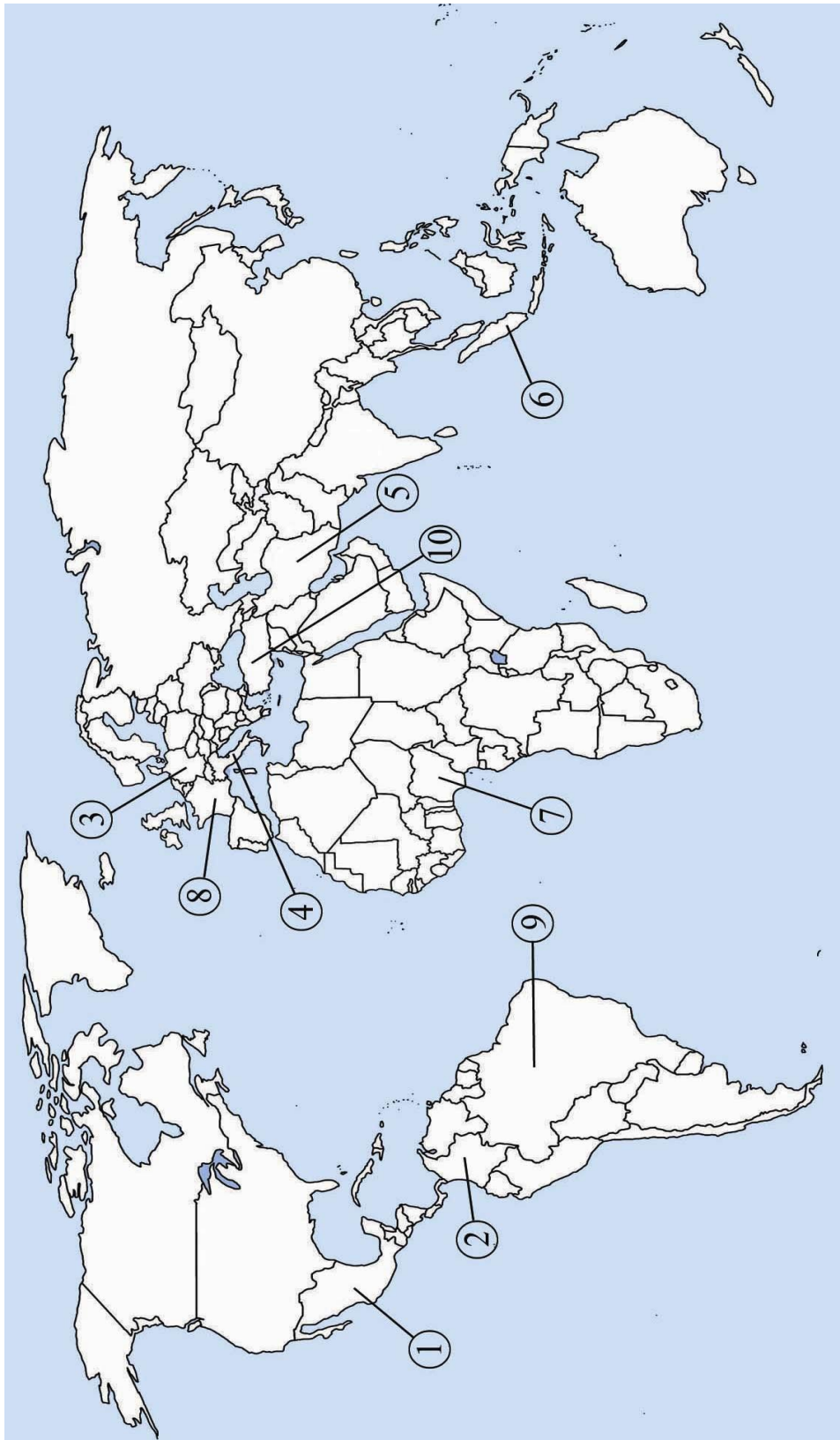
Градове: Гоце Делчев, Грън, Дупница

36. В свитъка за свободните отговори напишете кой социално-икономически регион на България се нарежда на първо място в страната по размера на обработваемата земя.

На практическите задачи 37. и 38. вкл. отговорете в свитъка за свободните отговори!

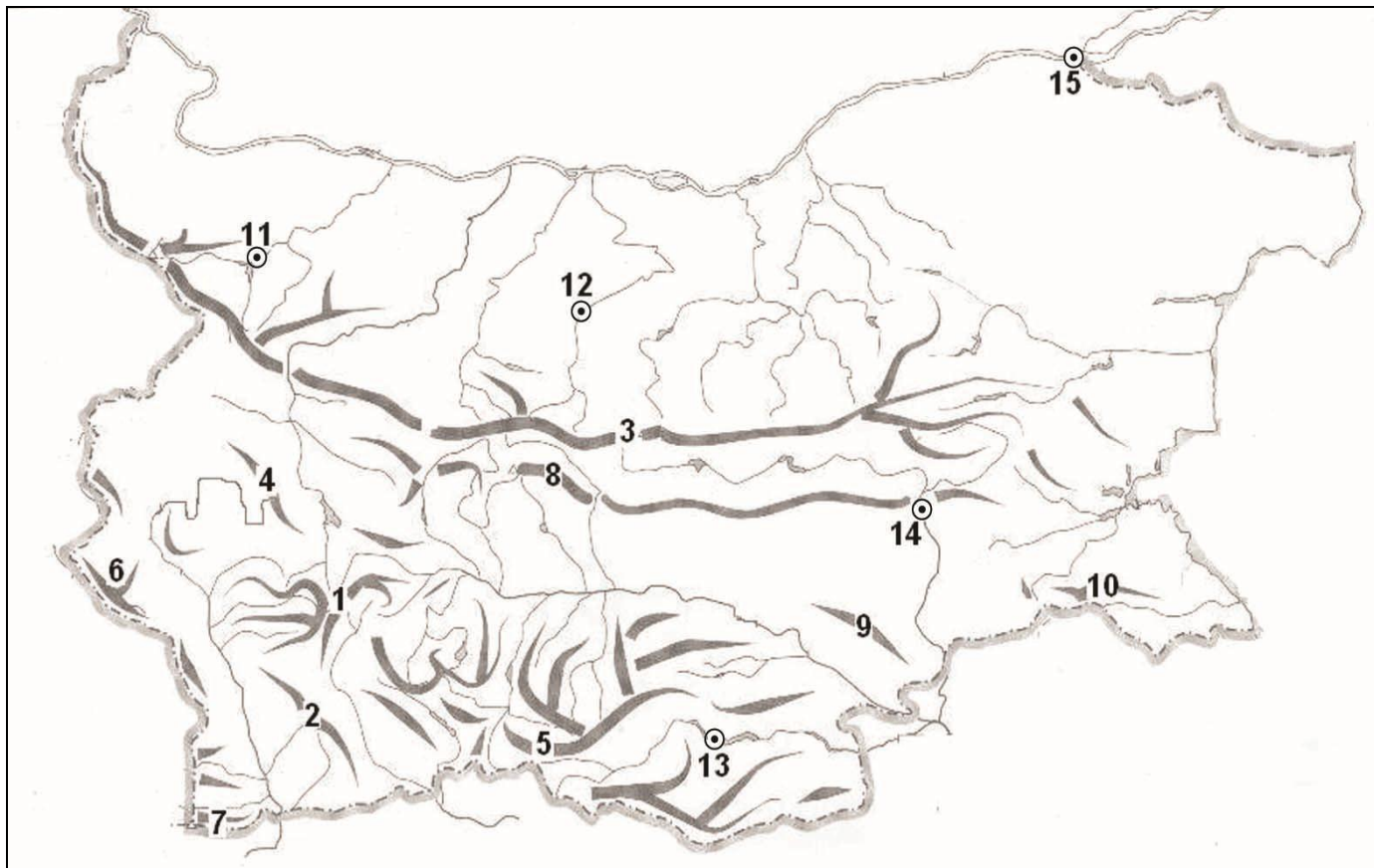
37. Практическа задача по география на света

В свитъка за свободните отговори срещу номера от 1 до 10 запишете наименованията на отбелязаните държави.



38. Практическа задача по география на България

В свитъка на свободните отговори срещу номера от 1 до 3 запишете наименованията на отбелязаните Национални паркове в България, срещу номера от 4 до 10 запишете наименованията на отбелязаните планини, а срещу номера от 11 до 15 запишете наименованията на отбелязаните на картосхемата областни градове.



Писмената разработка напишете в свитъка за свободните отговори на предвиденото за това място!

Географска характеристика на Задбалканските котловини

А) Географско положение, граници и морфохидрографски особености

Б) Природни условия и ресурси

- Релеф и полезни изкопаеми
- Климат и води
- Почви, растителност и животински свят

В) Стопанска усвоеност и геоекологични проблеми