

ДЪРЖАВЕН ЗРЕЛОСТЕН ИЗПИТ ПО
ГЕОГРАФИЯ И ИКОНОМИКА

29 май 2012 г. – Вариант 2

Отговорите на задачите от 1. до 30. вкл. отбелязвайте в листа за отговори!

1. Разстоянието между две селища на картата е 20 см. Мащабът е 1: 4 000 000. Колко е действителното разстояние между двете селища?

- А) 800 км
- Б) 80 км
- В) 8 км
- Г) 8000 км

2. Кой почвен тип е азонален?

- А) червеноземни
- Б) алувиално-ливадни
- В) черноземни
- Г) подзолисти

3. Коя от посочените природни зони се отличава с голямо количество биомаса, латеритни почви и високи средногодишни температури?

- А) влажни екваториални гори
- Б) степи
- В) тундра
- Г) ледени пустини

4. Кой географски регион в света е с най-големи запаси на нефт?

- А) Северноамерикански
- Б) Източноевропейски
- В) Югозападна Азия
- Г) Африкански регион

5. Кой демографски показател отразява бързото увеличение на населението в света?

- А) религиозна структура
- Б) механичен прираст
- В) естествен прираст
- Г) полова структура

6. Посочете една от най-влиятелните международни организации в света, в която членуват 27 държави?

- А) ОПЕК
- Б) Организация за африканско единство
- В) НАТО
- Г) Европейски съюз

7. В коя двойка „страна-форма на управление” има несъответствие?

- А) Индия-република
- Б) Белгия-република
- В) Великобритания-монархия
- Г) ОАЕ-монархия

8. Коя от посочените държави е световен лидер в добива и в производството на въглища, и съответно по брой ТЕЦ-ове на твърди горива?

- А) Бразилия
- Б) Китай
- В) Мексико
- Г) РЮА

9. Кое от посочените твърдения НЕ е характерно за Япония?

- А) Сравнително бедна на минерални ресурси.
- Б) Една от най-високо урбанизираните страни в света.
- В) Горите заемат незначителен дял от площта на страната.
- Г) Една от най-развитите страни в света със специализация във високотехнологичните производства.

10. В кой географски регион земеделието формира най-голям дял от БВП?

- А) Източноевропейски
- Б) Западноевропейски
- В) Африкански
- Г) Северноамерикански

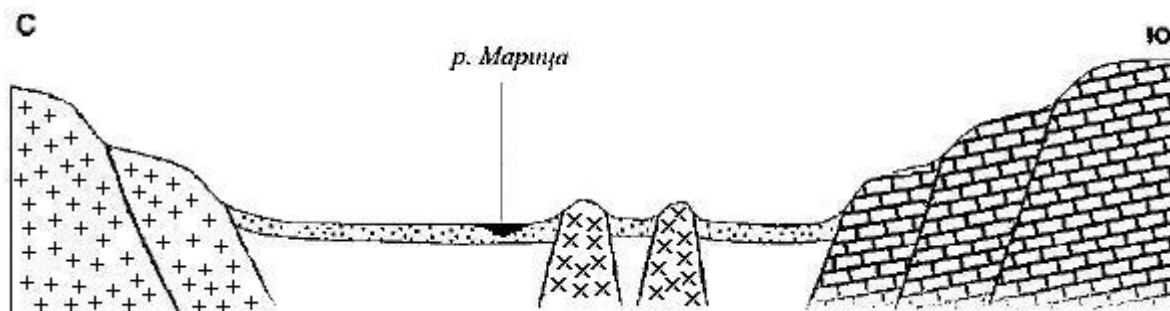
11. Дължината на границата между България и Румъния е:

- А) 609 км
- Б) 470 км
- В) 751 км
- Г) 493 км

12. Коя държавна граница на България се пресича от пътищата Петрич – Струмица, Благоевград – Делчево и Кюстендил – Крива паланка?

- А) със Сърбия
- Б) с Македония
- В) с Гърция
- Г) с Турция

13. Коя от посочените едри форми на релефа е изобразена на геолого-геоморфоложкия профил?



- А) Дунавска равнина
- Б) Бургаска низина
- В) Предбалкан
- Г) Горнотракийска низина

14. В находището при с. Кошава (област Видин) се добива:

- А) каолин
- Б) мрамор
- В) гипс
- Г) варовик

15. Кой от посочените фактори обуславя сезонното разпределение на валежите по територията на България?

- А) антропогенен фактор
- Б) подстилаща повърхнина
- В) циркуляционен фактор
- Г) релефът като фактор

16. Кои две котловини са разположени в поречието на р. Места?

- А) Самоковска и Кюстендилска
- Б) Разложка и Гоцеделчевска
- В) Благоевградска и Ихтиманска
- Г) Грънска и Казанлъшка

17. За кой тип почви в България се отнася следната характеристика?

„Формирани са върху езерни утайки и в условията на преходно-континентален климат, ливадно-блатна и дъбова растителност. Благоприятни са за отглеждането на зеленчуци, овощия, технически и зърнени култури.“

- А) смолници
- Б) черноземни
- В) канелени
- Г) кафяви горски

18. На базата на местни ресурси рудодобивът и цветната металургия се развиват във:

- А) Дунавската равнина
- Б) Странджа
- В) Пирин
- Г) Родопи

19. Най-високата точка на Краищенско-Средногорската област е?

- А) Черни връх
- Б) Ботев
- В) Богдан
- Г) Еледжик

20. Планината Родопи се различава от Рила по:

- А) начина на образуване
- Б) броя на растителните пояси
- В) отсъствието на ледникови форми
- Г) наличието на денудационни заравнености

21. За коя структура на населението на България се отнася следната характеристика:

„Влияе върху социално-икономическото развитие на страната. Има важно значение за качеството и заетостта на трудовите ресурси. Териториалните ѝ различия се дължат на възрастта на населението, условията на труд и социалната среда.“

- А) полово-възрастова
- Б) етническа
- В) религиозна
- Г) образователна

22. Кой от посочените съвременни градове е наследник на римско селище?

- А) Монтана
- Б) Созопол
- В) Карлово
- Г) Панагюрище

23. Коя от зърнените култури се отглежда основно във високите части на България?

- А) пшеница
- Б) царевица
- В) ръж
- Г) ечемик

24. Коя от посочените електроцентрали е ВЕЦ?

- А) „Бобовдол“
- Б) „Варна“
- В) „Марица-изток 3“
- Г) „Пещера“

25. В коя от изброените групи всички градове са центрове на тютюнопреработващата промишленост?

- А) Пловдив, Хасково, Стара Загора, Благоевград
- Б) Враца, Пловдив, Хасково, Стара Загора
- В) Пловдив, Варна, Хасково, Добрич
- Г) Шумен, Хасково, Бургас, Кърджали

26. Посочете групата от промишлени стоки, формиращи част от износа на страната:

- А) вино и соди
- Б) захар и каучукови изделия
- В) въглища и товарни автомобили
- Г) тютюн и дизелово гориво

27. Кое от посочените твърдения за Северозападния регион е вярно?

- А) Отличава се с най-ниска средна гъстота.
- Б) Силно развита е цветната металургия.
- В) Има специализация в тютюнопроизводството.
- Г) Пресича се от две транспортни магистралаи.

28. За кой географски регион в България се отнася следната характеристика:

„Северната му граница е най-къса и минава по билото на Стара планина. Връзката му със Северна България се осъществява чрез проходите Шипченски и Хаинбоаз.“

- А) Източен Тракийско-Родопски
- Б) Югоизточен;
- В) Западен Тракийско-Родопски
- Г) Югозападен

29. За кой географски регион се отнася следната характеристика?

„Регионът дава почти половината от производството на ръж и над 90% от производството на ориз. На неговата територия са разположени 60% от запасите на иглолистна дървесина в страната.“

- А) Югозападен
- Б) Северен Централен
- В) Западен Тракийско-Родопски
- Г) Североизточен Приморски

30. Троянският манастир, Кърчинското ханче и Покритият мост на Колю Фичето са туристически ресурси, които се намират във:

- А) Сливенска област
- Б) Пловдивска област
- В) Ловешка област
- Г) Варненска област

Отговорите на задачи от 31. до 38. вкл. запишете в свитъка за свободните отговори!

31. В свитъка на свободните отговори напишете кой глобален проблем е свързан с намаляване на запасите от въглища, нефт и природен газ в света.

32. В свитъка за свободните отговори запишете имената на литосферните плочи, обозначени с номера от 1 до 3 на картосхемата.



33. В свитъка на свободните отговори напишете за коя държава от Западноевропейския регион се отнася следната характеристика:

„Тя е островна и много слабо заселена. Основен енергиен източник на нейната територия са геотермалните води.“

34. В свитъка на свободните отговори напишете коя природногеографска област в България се разделя на три части – западна, средна и източна, и в нея се наблюдава ясно изразена вертикална зоналност на растителността, от широколистни гори до пасища и ливади.

35. В свитъка за свободните отговори срещу номера от 1 до 3 вкл. поставете дадените региони според производствената им специализация:

Производствена специализация	Регион
1. Ориенталски тютюн	
2. Череша	
3. Царевица	

Региони: Югозападен, Североизточен Приморски, Източен Тракийско-Родопски

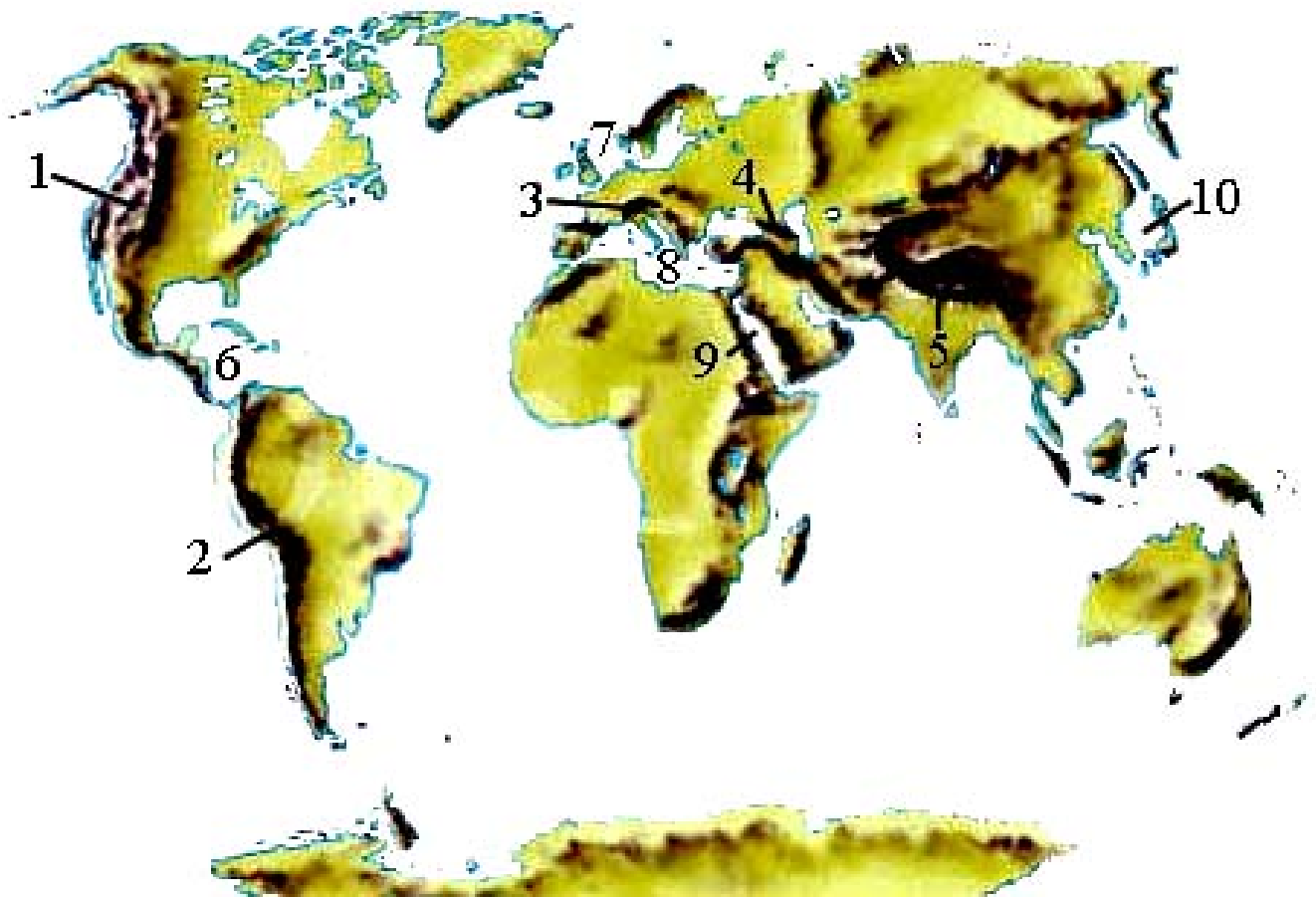
36. В свитъка за свободните отговори напишете за кой град в България се отнася следната характеристика:

„Основан е от римляните под името Абритус. Занаятчийски център през Възраждането с развито абаджийство, кожухарство, сапунджийство. Днес е областен град, център на фармацевтична и стъklarска промишленост.“

На практическите задачи 37. и 38. вкл. отговорете в свитъка за свободните отговори!

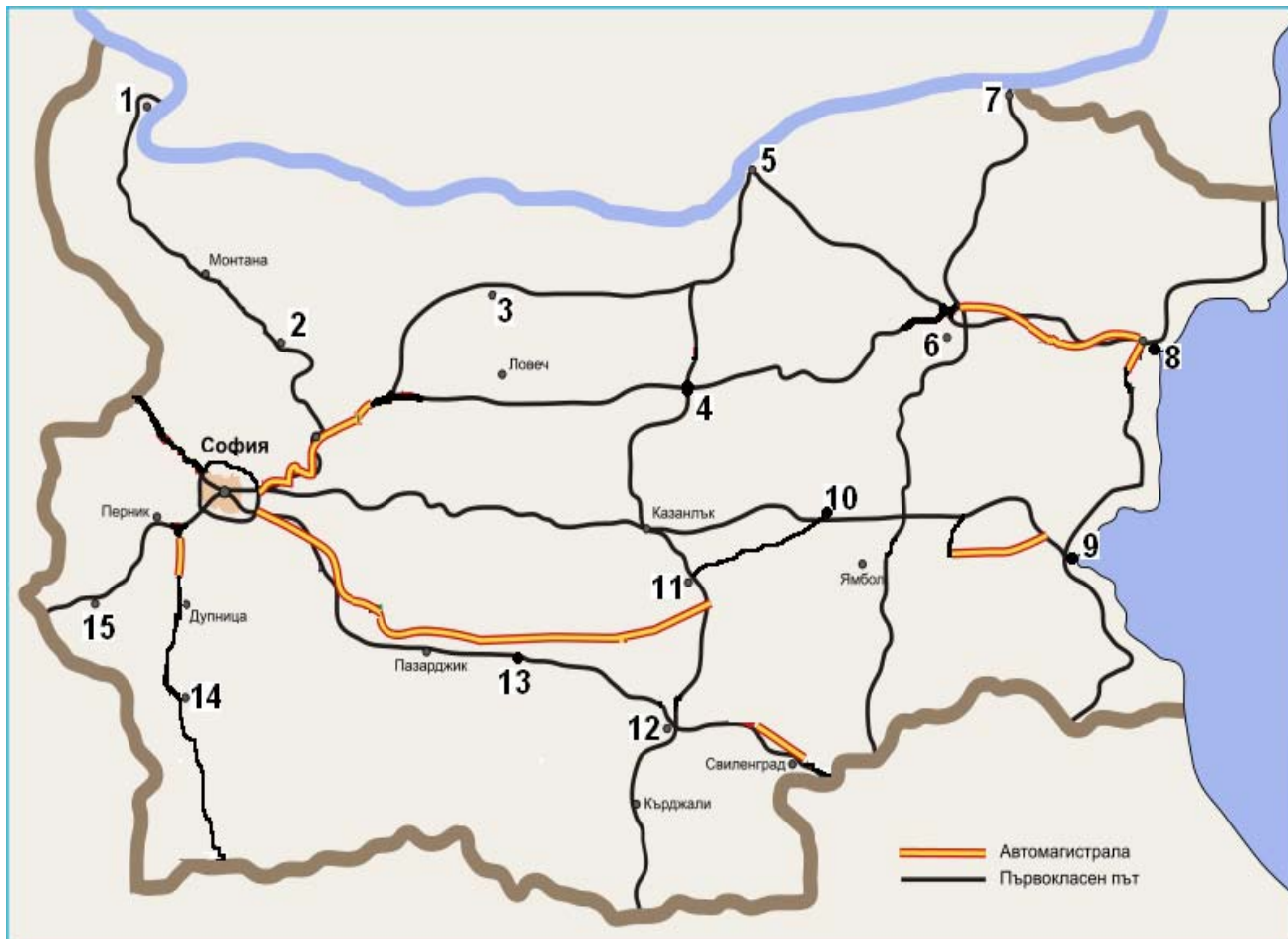
37. Практическа задача по география на света

В свитъка за свободните отговори срещу номера от 1 до 5 вкл. напишете наименованието на планинската верига, а срещу номера от 6 до 10 вкл. – наименованието на съответното море.



38. Практическа задача по география на България

В свитъка за свободните отговори срещу номера от 1 до 15 вкл. напишете наименованията на отбелязаните на картосхемата градове – шосейни центрове.



Писмената разработка напишете в свитъка за свободните отговори на предвиденото за това място!

Полезни изкопаеми в България

А) Значение и особености

Б) Количествена и качествена оценка на различните видове:

- изкопаеми горива
- рудни полезни изкопаеми
- нерудни полезни изкопаеми

В) Рационално използване и опазване на околната среда