

ДЪРЖАВЕН ЗРЕЛОСТЕН ИЗПИТ ПО

ГЕОГРАФИЯ И ИКОНОМИКА

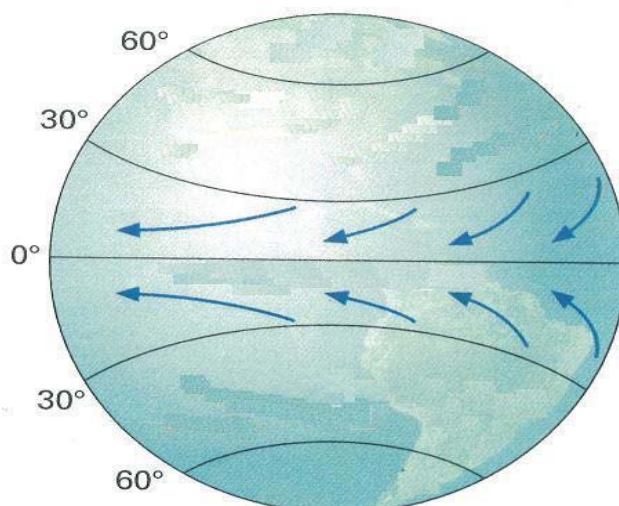
29 май 2012 г. – Вариант 2

*Отговорите на задачите от 1. до 30. вкл. отбелязвайте в листа за отговори!*

1. Изчислете действителното разстояние между градовете А и Б, ако мащабът на картата е 1:3 500 000, а измереното разстояние между тях е 12 см:

- А) 455 км
- Б) 420 км
- В) 380 км
- Г) 350 км

2. Кои постоянни ветрове са изобразени на схемата?



- А) бризи
- Б) летни мусони
- В) зимни мусони
- Г) пасати

3. Посочете природната зона, характерна за умерения пояс:

- А) тайга
- Б) тундра
- В) савана
- Г) вечнозелени гори и храсти

4. Значителни запаси на медна руда са разкрити в планинската верига на:

- А) Алпите
- Б) Андите
- В) Урал
- Г) Апалачите

**5. Процесът на изселване на население от централните части на големите градове към периферията им се нарича:**

- А) псевдоурбанизация
- Б) субурбанизация
- В) рурбанизация
- Г) урбанизация

**6. Посочете организацията, обединяваща страните – износителки на петрол:**

- А) ЦЕФТА
- Б) АСЕАН
- В) ОПЕК
- Г) НАТО

**7. Коя от посочените държави е разположена на Балканския полуостров и е член на ЕС и на НАТО?**

- А) Сърбия
- Б) Словакия
- В) Гърция
- Г) Албания

**8. Кой от отраслите НЕ се отнася към вторичния сектор?**

- А) дърводобив
- Б) дървопреработваща
- В) целулозно – хартиена
- Г) мебелна

**9. Технически култури са:**

- А) царевичата и слънчогледът
- Б) оризът и памукът
- В) ръжта и захарното цвекло
- Г) памукът и слънчогледът

**10. Коя азиатска страна е водеща в областта на корабостроенето?**

- А) Япония
- Б) Пакистан
- В) Иран
- Г) Узбекистан

**11. За кой географски регион се отнася следната характеристика?**

*„На територията му са разположени най-голям брой държави. Характеризира се със слабо развитие на транспорта и с висока раждаемост на населението.”*

- А) Азиатски
- Б) Латиноамерикански
- В) Африкански
- Г) Северноамерикански

**12. Открийте грешката в посочените крайни точки на България:**

- А) на север - устието на р.Тимок
- Б) на юг - връх Вейката в Родопите
- В) на запад - връх Руен в Осоговска планина
- Г) на изток - нос Шабла

**13. В кое от посочените селища НЯМА свободна безмитна зона?**

- А) Драгоман
- Б) Пловдив
- В) Видин
- Г) Плевен

**14. Льосът е широко разпространен в:**

- А) долината на река Струма
- Б) Дунавската равнина
- В) Бургаската низина
- Г) Горнотракийската низина

**15. Кое от посочените находища е на каолин?**

- А) Бобовдол
- Б) Сеново
- В) Асарел
- Г) Мадан

**16. Най-голямата годишна температурна амплитуда в България е измерена в:**

- А) Дунавската равнина
- Б) Горнотракийската низина
- В) Рило–Родопската област
- Г) Черноморското крайбрежие

**17. С кои от изброените признаци се характеризира циклоналното време през лятото по нашите географски ширини?**

- А) дъждовно и хладно
- Б) ясно и горещо
- В) влажно и горещо
- Г) ясно и сухо

**18. Кой тип подземни води са акумулирани в заливните речни тераси, наносните конуси и младите наслаги в котловините?**

- А) карстови
- Б) грунтови
- В) напорни
- Г) минерални

**19. Кои от посочените минерални извори са разположени в Родопите?**

- А) Вършец, Шипково
- Б) Хисаря, Вонеща вода
- В) Павел баня, Сапарева баня
- Г) Девин, Наречен

**20. Кой почвен тип е характерен за Северната почвена област в България?**

- А) кафяви горски
- Б) сиви горски
- В) канелени горски
- Г) жълтоземни

**21. Лонгозните гори са разпространени:**

- А) в крайдунавските низини
- Б) по долните течения на Камчия и Ропотамо
- В) по поречието на р. Струма
- Г) по долината на р. Марица

**22. Коя котловина НЕ е разположена в Краище?**

- А) Пернишка
- Б) Радомирска
- В) Трънска
- Г) Разложка

**23. Населението на коя от посочените територии в България се отличава с най-големи възпроизводствени възможности?**

- А) Северозападна България
- Б) Краище
- В) Сакар – Странджа
- Г) Североизточна България

**24. Кой от посочените градове е с население над 100 хиляди души?**

- А) Благоевград
- Б) Плевен
- В) Силистра
- Г) Ловеч

**25. По форма на държавно управление България е:**

- А) президенстка република
- Б) парламентарна република
- В) конституционна монархия
- Г) абсолютна монархия

**26. За кой подотрасъл на животновъдството се отнася следната характеристика:**

*„Заема най-голям дял в структурата на животновъдството. Осигурява 81% от млякото в страната, около 20 – 21% от месото и 75% от кожите. Специализира се в две направления – за месо и за мляко. Развива се в районите с осигурена фуражна база и край големите градове.“*

- А) козевъдство
- Б) говедовъдство
- В) овцевъдство
- Г) биволовъдство

**27. На кое от посочените пристанища НЕ функционира ферибот?**

- А) Видин
- Б) Силистра
- В) Гутракан
- Г) Оряхово

**28. Кой от икономическите региони в страната е специализиран в оризопроизводството, зеленчукопроизводството и в производството на етерично-маслени култури?**

- А) Югозападен
- Б) Западен Тракийско-Родопски
- В) Югоизточен
- Г) Северен Централен

**29. Кой от изброените отрасли НЕ се развива в Северен Централен регион?**

- А) текстилна
- Б) циментова
- В) черна металургия
- Г) дървопреработваща

**30. Част от административната територия на Югозападния регион е:**

- А) Пазарджишка област
- Б) Врачанска област
- В) Кюстендилска област
- Г) Габровска област

Отговорите на задачи от 31. до 38. вкл. запишете в свитъка за свободните отговори!

**31. В свитъка за свободните отговори допишете пропуснатото в изречението:**

*„Цените на стоките и услугите се определят от производствените разходи и от .....  
– в зависимост от търсенето и предлагането.“*

**32. В свитъка за свободните отговори напишете как се наричат най-големите градски образувания, резултат от срастването на голям брой съседни агломерации.**

**33. В свитъка за свободните отговори напишете за коя страна в света се отнася следната характеристика.**

*„Страната се нарежда на пето място по площ в света. Богата е на железни руди, водни и горски ресурси. Пресича се от южната тропична окръжност.“*

**34. В свитъка за свободните отговори напишете в обхвата на коя климатична област са разположени Гоцеделчевската котловина, Източните Родопи и Сакар.**

**35. В свитъка за свободните отговори срещу номера от 1 до 3 вкл. поставете дадените градове според разположението им в съответната административна област.**

Административна област	Градове
1. Великотърновска	
2. Габровска	
3. Ловешка	

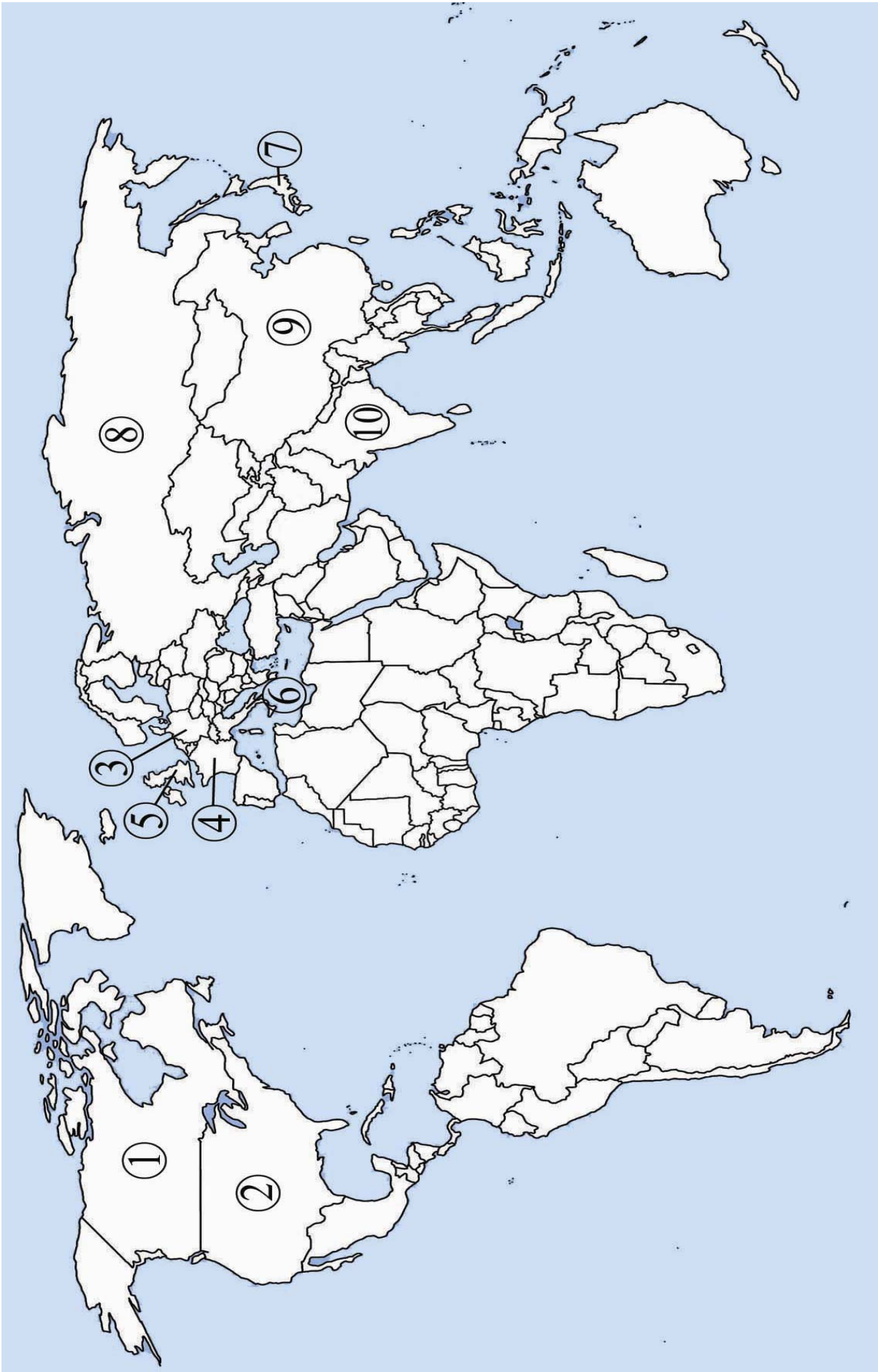
*Градове: Троян, Севлиево, Свищов*

**36. В свитъка за свободните отговори напишете името на социално-икономическия регион в България, в който се намира езерото Сребърна.**

*На практическите задачи 37. и 38. вкл. отговорете в свитъка за свободните отговори!*

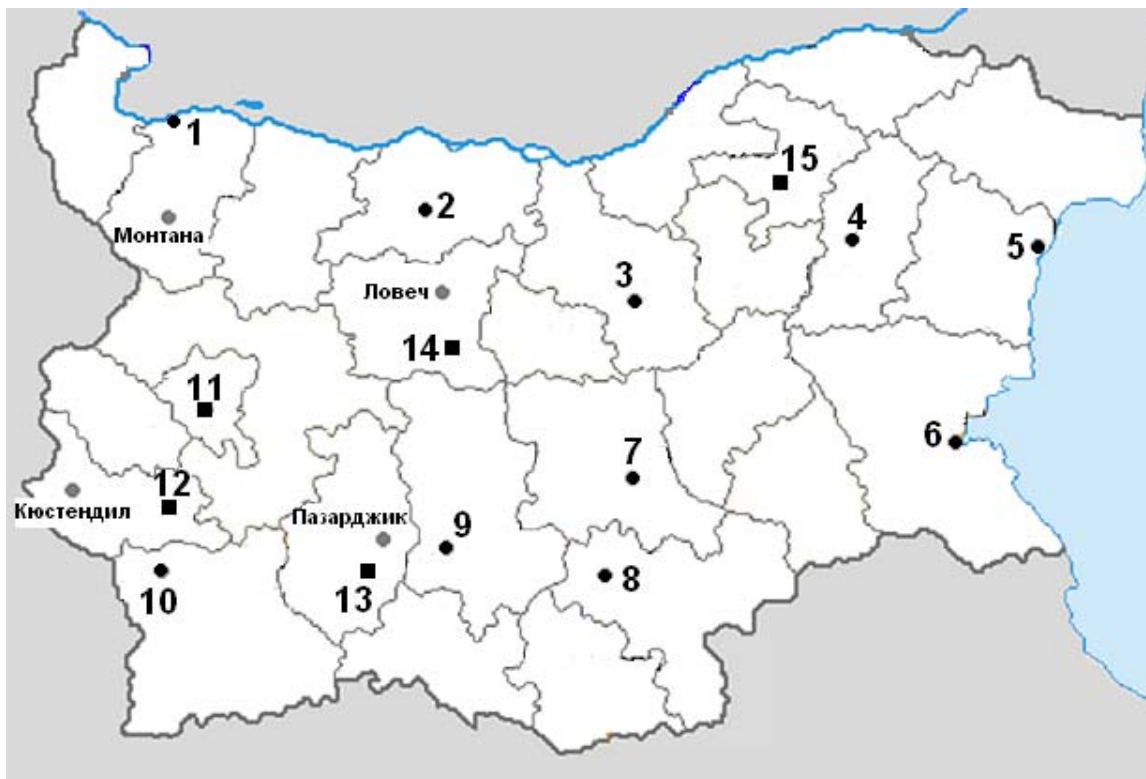
**37. Практическа задача по география на света**

**В свитъка за свободните отговори срещу номера от 1 до 8 напишете имената на отбелязаните държави – членки на Г-8, а срещу номера от 9 до 10 – имената на държавите с най-многобройно население в света.**



### 38. Практическа задача по география на България

В свитъка за свободните отговори срещу номера от 1 до 10 напишете имената на отбелязаните градове-пивоварни центрове, а срещу номера от 11 до 15 отбелязаните на картосхемата фармацевтични центрове.



Писмената разработка напишете в свитъка за свободните отговори на предвиденото за това място!

#### Характеристика на Североизточен Приморски регион

А) Географско положение, граници и големина

Б) Характеристика и оценка на природните условия и ресурси

- релеф и полезни изкопаеми
- климат и води
- почви, растителност и животински свят

В) Население