


ДЪРЖАВЕН ЗРЕЛОСТЕН ИЗПИТ ПО
ГЕОГРАФИЯ И ИКОНОМИКА

4 септември 2009 г. – Вариант 1

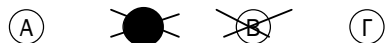
УВАЖАЕМИ ЗРЕЛОСТНИЦИ,

Тестът по география и икономика съдържа **30 задачи** с избираем отговор, две практически задачи и задача за написване на писмена разработка.

Първите 30 задачи (от 1. до 30. включително) в теста са от затворен тип с четири възможни отговора, обозначени с главни букви от А до Г, от които само един е верен. Отговорите на тези задачи отбелязвайте със син/черен цвят на химикалката в **листа за отговори**, а не върху тестовата книжка. Отбелязвайте верния отговор със знака **X** в кръгчето с буквата на съответния отговор. Например:



Ако след това прецените, че първоначалният отговор не е верен и искате да го поправите, запълнете кръгчето с грешния отговор и отбележете буквата на друг отговор, който приемате за верен. Например:



За всяка задача трябва да е отбелязан не повече от един действителен отговор. Като действителен отговор на съответната задача се приема само този, чиято буква е отбелязана със знака X.

Отговорите на задачите със свободен отговор (от 31. до 36. включително) се отбелязват в предоставения **свитък за свободните отговори**. Четете внимателно инструкциите!

Отговорите на **практическите задачи (37. и 38.)** попълвайте в предоставения **свитък за свободните отговори**.

Писмената разработка върху география на България напишете в **свитъка за свободните отговори** на предвиденото за това място.

ПОЖЕЛАВАМЕ ВИ УСПЕШНА РАБОТА!

Отговорите на задачите от 1. до 30. вкл. отбелязвайте в листа за отговори!

1. Радиационен баланс наричаме:

- А) разликата между пряката и разсеяна в атмосферата слънчева радиация
- Б) погълнатата от земната повърхност слънчева радиация
- В) разликата между сумарната слънчева радиация, погълната от земната повърхност и ефективното излъчване
- Г) абсорбираната от атмосферата слънчева радиация

2. Коя природна зона е разположена на север и на юг от влажните екваториални гори?

- А) савани
- Б) степи
- В) тайга
- Г) тундра

3. Рурски, Кузнецки, Апалачки са големи басейни за добив на:

- А) морска сол
- Б) нефт
- В) въглища
- Г) медни руди

4. При коя от двойките "процес – форми на релефа" има несъответствие?

- А) дейност на течащата вода – проломи
- Б) химично действие на водата – пещери
- В) дейност на океанската и морската вода – морени
- Г) дейност на вятъра – дюни

5. С ниска степен на урбанизираност се характеризира:

- А) Южна Европа
- Б) Австралия
- В) Източна Африка
- Г) Северна Америка

6. Организацията НАФТА включва държави от географския регион на:

- А) Северна Америка
- Б) Югоизточна Азия
- В) Австралия и Океания
- Г) Източна Европа

7. В коя от посочените групи страни са включени само федеративни страни, според вътрешното им административно устройство?

- А) Бразилия, Индия, САЩ
- Б) Норвегия, Швеция, Франция
- В) Япония, Дания, Аржентина
- Г) Италия, Испания, Австрия

8. Свободно движение на стоки, услуги, капитали и работна сила се извършва между страните членки на:

- А) ОПЕК
- Б) НАТО
- В) ООН
- Г) ЕС

9. Факторите, които позволяват на хората да произвеждат повече, по-разнообразни и по-качествени стоки и услуги за по-кратко време са:

- А) природни
- Б) политически
- В) демографски
- Г) научно-технически

10. В кои държави на Латиноамериканския регион овцевъдството заема водещо място в животновъдството и селскостопанската продукция?

- А) Колумбия и Еквадор
- Б) Мексико и Гватемала
- В) Аржентина и Уругвай
- Г) Куба и Ямайка

11. Коя от посочените държави НЕ попада в Западноевропейския регион?

- А) Дания
- Б) Белгия
- В) Полша
- Г) Австрия

12. Според кой международен договор на България е отнет излазът на Егейско море, а територията ѝ остава 103 000 кв. км.?

- А) Санстефански
- Б) Берлински
- В) Букурещки
- Г) Ньойски

13. ГКПП Станке Лисичково (Логодаж) се намира на границата с:

- А) Македония
- Б) Сърбия
- В) Гърция
- Г) Турция

14. Преобладаващият тип релеф в България е:

- А) низинен
- Б) среднопланински
- В) нископланински
- Г) равнинно-хълмист

15. Къде е измерена най-ниската средногодишна температура в България (-3°C)?

- А) град Трън
- Б) връх Мусала
- В) град Кнежа
- Г) връх Ботев

16. В коя климатична област на България попадат Сакар и Дервенските възвишения?

- А) умереноконтинентална
- Б) континентално-средиземноморска
- В) черноморска
- Г) преходноконтинентална

17. Речни и морски води се смесват в:

- А) езеро Сребърна
- Б) Варненско езеро
- В) Дуранкулашко езеро
- Г) Рабишко езеро

18. Кои почви са типични за Предбалкана?

- А) планинско-ливадни
- Б) сиви горски
- В) канелени горски
- Г) смолници

19. Отбележете характерният за планината Странджа растителен вид:

- А) конски кестен
- Б) иглика
- В) зеленика
- Г) бряст

20. За коя природна област на България са типични асиметричните и каньоновидни долини, лъсовите плата и суходолия?

- А) Горнотракийска низина
- Б) Предбалкан
- В) Дунавска равнина
- Г) Пирин

21. Посочете демографският процес, който НЕ води до намаляване броя на населението в България:

- А) ниска раждаемост
- Б) външни миграции
- В) вътрешни миграции
- Г) застаряване на населението

22. Отбележете градът, който е основан от римляните?

- А) Созопол
- Б) Варна
- В) Стара Загора
- Г) Видин

23. Кой от факторите е водещ за териториалното разположение на шивашката промишленост?

- А) броят на работната сила
- Б) суровинният фактор
- В) екологичният фактор
- Г) гъстотата на селищната мрежа

24. При коя от двойките “район – специализация в растениевъдството” има несъответствие?

- А) Карловска котловина– памук
- Б) Добруджа – пшеница
- В) Източни Родопи – тютюн
- Г) Пловдивско поле – домати

25. Най-голям дял от площите заети с трайни насаждения се падат на:

- А) ябълките
- Б) кайсиите
- В) прасковите
- Г) черешите

26. Кой град НЕ е център на земеделско машиностроене?

- А) Карлово
- Б) Русе
- В) Ямбол
- Г) Бургас

27. Големи центрове на мелничарската промишленост са:

- А) Перник, Кюстендил, Благоевград
- Б) Бургас, Сливен, Ямбол
- В) Ловеч, Троян, Тетевен
- Г) Габрово, Велико Търново, Трявна

28. В кой от посочените икономически региони се намират около 70% от запасите на лигнитни въглища?

- А) Източен Тракийско-Родопски
- Б) Югозападен
- В) Западен Тракийско-Родопски
- Г) Северен Централен

29. В кой икономически регион са разположени старите български столици Плиска и Велики Преслав?

- А) Североизточен Придунавски
- Б) Североизточен Приморски
- В) Югоизточен
- Г) Северен Централен

30. На територията на кой икономически регион са разположени общините Карлово, Хисаря и Кричим?

- А) Северен Централен
- Б) Източен Тракийско – Родопски
- В) Западен Тракийско – Родопски
- Г) Югозападен

Отговорите на задачи от 31. до 38. вкл. запишете в свитъка за свободните отговори!

31. В свитъка за свободните отговори напишете наименованието на региона, за който се отнася следната характеристика.

„Регионът разполага с огромен природноресурсен потенциал. В него се намират едни от най-богатите, но и най-бедни страни в света. В някои от тях успешно се провежда политика по ограничаване на раждаемостта.“

32. В свитъка за свободните отговори напишете пропуснатият икономически показател.

Пазарната стойност на всички стоки и услуги произведени в една страна за една година се нарича.....

33. В свитъка за свободните отговори напишете кой вид транспорт се използва само за превоз на суровини и продукти?

34. В свитъка за свободните отговори напишете за коя климатична област в България се отнася описанието:

„Режимът на валежите се характеризира с есенно-зимен максимум и летен минимум. Температурната амплитуда е 21-22 градуса. Средната януарска температура е $+2^{\circ}\text{C}+3^{\circ}\text{C}$. Преобладаващите ветрове са югозападни, северозападни и южни.“

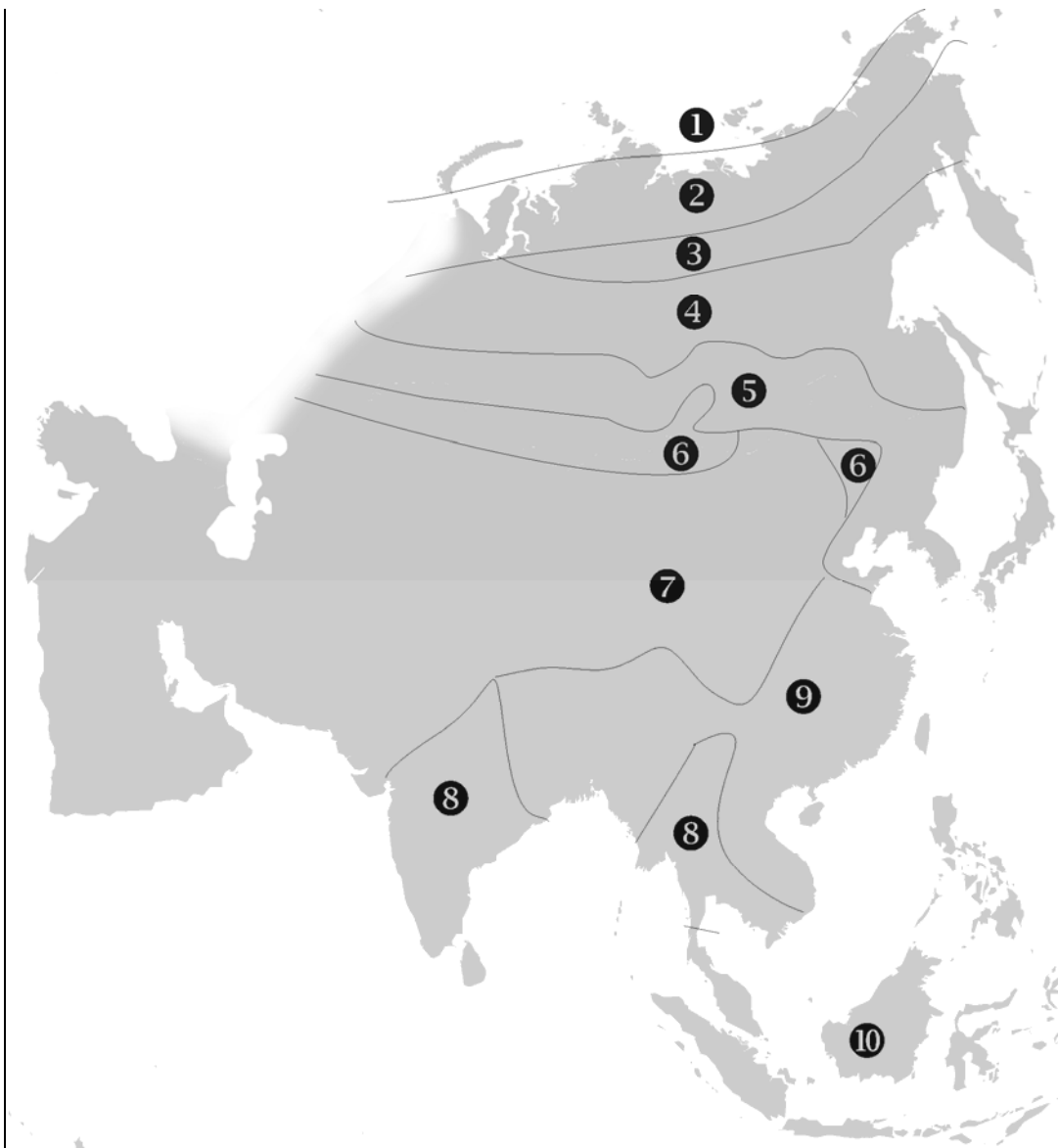
35. В свитъка за свободните отговори напишете основната административно-териториална единица в България, в която са осъществява местното самоуправление.

36. В свитъка за свободните отговори напишете кой икономически регион в България е специализиран в производството на минерални торове, сода, кораби, стъкларски и порцеланови изделия?

На практическите задачи 37. и 38. вкл. отговорете в свитъка за свободните отговори!

37. Практическа задача по география на света

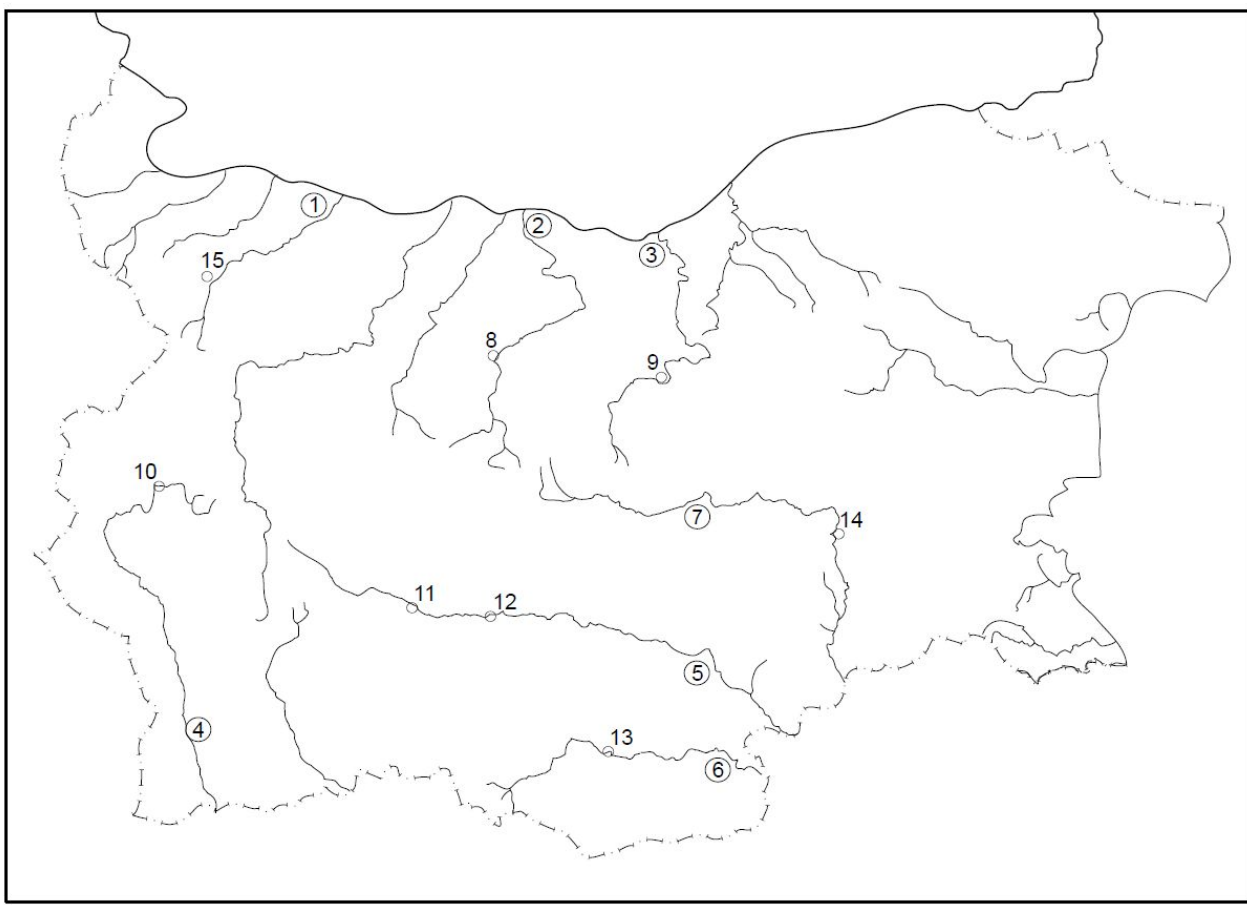
На картосхемата с номера от 1 до 10 са обозначени природните зони на континента Азия. В свитъка на свободните отговори срещу номера от 1 до 10 вкл. запишете името на съответната природна зона.



38. Практическа задача по география на България

Практическа задача по география на България

В свитъка за свободните отговори срещу номера от 1 до 7 вкл. напишете имената на реките, а срещу номера от 8 до 15 вкл. напишете имената на областните градове, отбелязани на картосхемата на България.



Писмената разработка напишете в свитъка за свободните отговори на предвиденото за това място!

Географско положение на България

А) Същност и значение

Б) Характеристика и оценка на видовете географско положение

- астрономическо географско положение
- природногеографско положение
- икономгеографско положение
- политикоеографско положение