

Учебен център Регалия



Учебен център • Издателство • Всичко за матурите • Е-обучение • За нас

Учебен център "Регалия" организира:

- целогодишни курсове за подготовка за зрелостни и кандидатстудентски изпити;
- целогодишни курсове за кандидатстване в езикови и профилирани гимназии по български език и математика;
- пробни изпити за кандидатстване след 7. клас;
- курсове за текуща подготовка по български език и математика за 6. клас.



На интернет страницата на Учебния център
<http://www.regalia6.com>
може да намерите:

[тестове за външно оценяване за 4. клас](#)

[тестове за външно оценяване за 5. клас](#)

[тестове за външно оценяване за 6. клас](#)

[тестове за външно оценяване и кандидатстване след 7. клас](#)

[конкурсни изпити за кандидатстване след 7. клас](#)

[задачи от национални състезания за 7. клас](#)

[примерни тестове за ЕПИ на УНСС](#)

[тестове за зрелостни изпити](#)

[връзки към средни училища в София](#)

[връзки към висши училища в България](#)

и още много полезна информация.


ДЪРЖАВЕН ЗРЕЛОСТЕН ИЗПИТ ПО
ГЕОГРАФИЯ И ИКОНОМИКА

2 септември 2008 г. – Вариант 2

УВАЖАЕМИ ЗРЕЛОСТНИЦИ,


Тестът съдържа **30 задачи** по география и икономика, две практически задачи и две задачи за написване на писмени разработки. 30-те задачи са **два вида**:


- задачи с избираем отговор;
- задачи със свободен отговор.

Първите 28 задачи (от 1. до 28. включително) в теста са от затворен тип с четири възможни отговора, обозначени с главни букви от А до Г, от които само един е верен. Отговорите на тези задачи отбелязвайте със син цвят на химикалката в **листа за отговори**, а не върху тестовата книжка. За да отбележите верния отговор, зачертайте със знака  кръгчето с буквата на съответния отговор. Например:

(A) ~~(B)~~ (B) (G)

Ако след това прецените, че първоначалният отговор не е верен и искате да го поправите, запълнете кръгчето с грешния отговор и зачертайте буквата на друг отговор, който приемате за верен. Например:

(A)  ~~(B)~~ (G)

За всяка задача трябва да е отбелязан не повече от един действителен отговор. Като действителен отговор на съответната задача се приема само този, чиято буква е зачертана със знака  .

Отговорите на **задачите със свободен отговор (29. и 32.)** попълвайте в предоставения свитък за свободните отговори.

Писмените разработки върху география на света и география на България напишете в **свитъка за свободните отговори** на предвиденото за това място.

ПОЖЕЛАВАМЕ ВИ УСПЕШНА РАБОТА!

Отговорите на задачите от 1. до 28. вкл. отбелязвайте в листа за отговори!

1. Разстоянието между две селища на картата е 20 см. Мащабът е 1: 4 000 000. Колко е действителното разстояние между двете селища?

- А) 800 км
- Б) 80 км
- В) 8 км
- Г) 8000 км

2. Кое от твърденията за Земята е невярно?

- А) състои се от ядро, мантия и земна кора
- Б) релефът на Земята е резултат от вътрешни и външни релефообразуващи процеси
- В) твърдо тяло, светещо с отразена светлина
- Г) двигател на процесите във вътрешността на Земята е слънчевата енергия

3. При коя от двойките процес – форма има несъответствие?

- А) ерозия – равнина
- Б) абразия – прибойна ниша
- В) свличане – свлачище
- Г) изветряне – дюни

4. Кой от посочените ресурси е изчерпаем и невъзобновим?

- А) полезни изкопаеми
- Б) водни ресурси
- В) почвени ресурси
- Г) растителни ресурси

5. Стопанското значение на приливите и отливите се изразява в:

- А) строителството на пътища
- Б) развитието на морския туризъм
- В) развитието на речния туризъм
- Г) производството на електроенергия

6. Разликата между раждаемостта и смъртността на дадено място се определя като:

- А) демографски прираст
- Б) естествен прираст
- В) механичен прираст
- Г) действителен прираст

7. Кое твърдение за урбанизацията НЕ е вярно?

- А) увеличаване на броя на градовете
- Б) нарастване на дела на градското население
- В) разпространение на градския начин на живот
- Г) преселване на градско население в селата

8. В коя група всички държави по форма на управление са монархии?

- А) Япония, Нидерландия, Индия
- Б) Финландия, Румъния, Австрия
- В) Индия, Испания, Португалия
- Г) Белгия, Испания, Швеция

9. Цел на коя регионална международна организация е „Постигането на пълно икономическо, политическо и културно интегриране между страните членки.“?

- А) НАТО
- Б) ЕС
- В) ОПЕК
- Г) ООН

10. Германия се характеризира със специализация в?

- А) текстилна промишленост
- Б) обувна промишленост
- В) машиностроене
- Г) туризъм

11. Коя от посочените страни произвежда най-много ориз?

- А) Виетнам
- Б) Китай
- В) Индонезия
- Г) Пакистан

12. В коя двойка „производство – продукт“ има несъответствие?

- А) черна металургия – чугун
- Б) месопреработваща промишленост – колбас
- В) текстилна промишленост – прокат
- Г) пивоварна промишленост – бира

13. Кой от отраслите НЕ се отнася към вторичния сектор ?

- А) дърводобив
- Б) преработка на дървесина
- В) производство на целулоза и хартия
- Г) производство на мебели

14. На границата с коя държава е ГКПП Капитан Андреево?

- А) Румъния
- Б) Македония
- В) Турция
- Г) Гърция

15. Кой почвен тип е характерен за Предбалкана?

- А) черноземни
- Б) сиви горски
- В) жълтоземни
- Г) смолници

16. Коя от посочените котловини се включва в обхвата на Задбалканските?

- А) Гоцеделчевска
- Б) Златишко-Пирдопска
- В) Грънска
- Г) Ботевградска

17. Басейни на черни въглища са:

- А) Балканбас, Добруджански
- Б) Марбас, Софийски
- В) Пирински, Пернишки
- Г) Бобовдолски, Бургаски

18. Сол се добива в:

- А) ез.Сребърна
- Б) Поморийско езеро
- В) Рабишко езеро
- Г) ез.Окото

19. Кои реки се вливат директно в Черно море?

- А) Осъм, Вит, Янтра
- Б) Арда, Места, Струма
- В) Камчия, Резовска, Ропотамо
- Г) Тунджа, Въча, Огоста

20. За коя природногеографска подобласт се отнася следното описание?

„Разположена е в Южна България. Западната ѝ част е по-висока и богата на рудни полезни изкопаеми, а източната – по-ниска и богата на нерудни полезни изкопаеми.”

- А) Витоша
- Б) Рила
- В) Пирин
- Г) Родопи

21. Най-високият връх на коя българска планина е изграден от мрамори?

- А) Витоша
- Б) Рила
- В) Пирин
- Г) Родопи

22. В коя група са включени селища, възникнали по време на гръцката колонизация?

- А) София, Пловдив, Русе
- Б) Варна, Видин, Русе
- В) Ямбол, Балчик, Бургас
- Г) Варна, Несебър, Созопол

23. Най-големият металургичен комбинат в страната се намира в близост до:

- А) София
- Б) Перник
- В) Дебелт
- Г) Шумен

24. Центрове за производство на лекарства в България са:

- А) Плевен, Русе, Габрово
- Б) Дупница, Троян, Разград
- В) Велико Търново, Ловеч, Пазарджик
- Г) Ямбол, Сливен, Кърджали

25. Кой от посочените региони в България граничи с всички останали, с изключение на Североизточния приморски регион?

- А) Северен централен
- Б) Северозападен
- В) Югоизточен
- Г) Югозападен

26. Кои проходи са по северната граница на Югоизточния регион ?

- А) Вратник и Петрохан
- Б) Троянски и Шипченски
- В) Витиня и Етрополски
- Г) Котленски и Върбишки

27. Кой град НЕ е пристанище на р. Дунав?

- А) Русе
- Б) Балчик
- В) Белене
- Г) Свищов

28. Първата вълнотекстилна фабрика в България е откита в град?

- А) Сливен
- Б) Русе
- В) Пловдив
- Г) Ямбол

Отговорите на задачите 29. и 32. вкл. запишете в свитъка за свободните отговори!

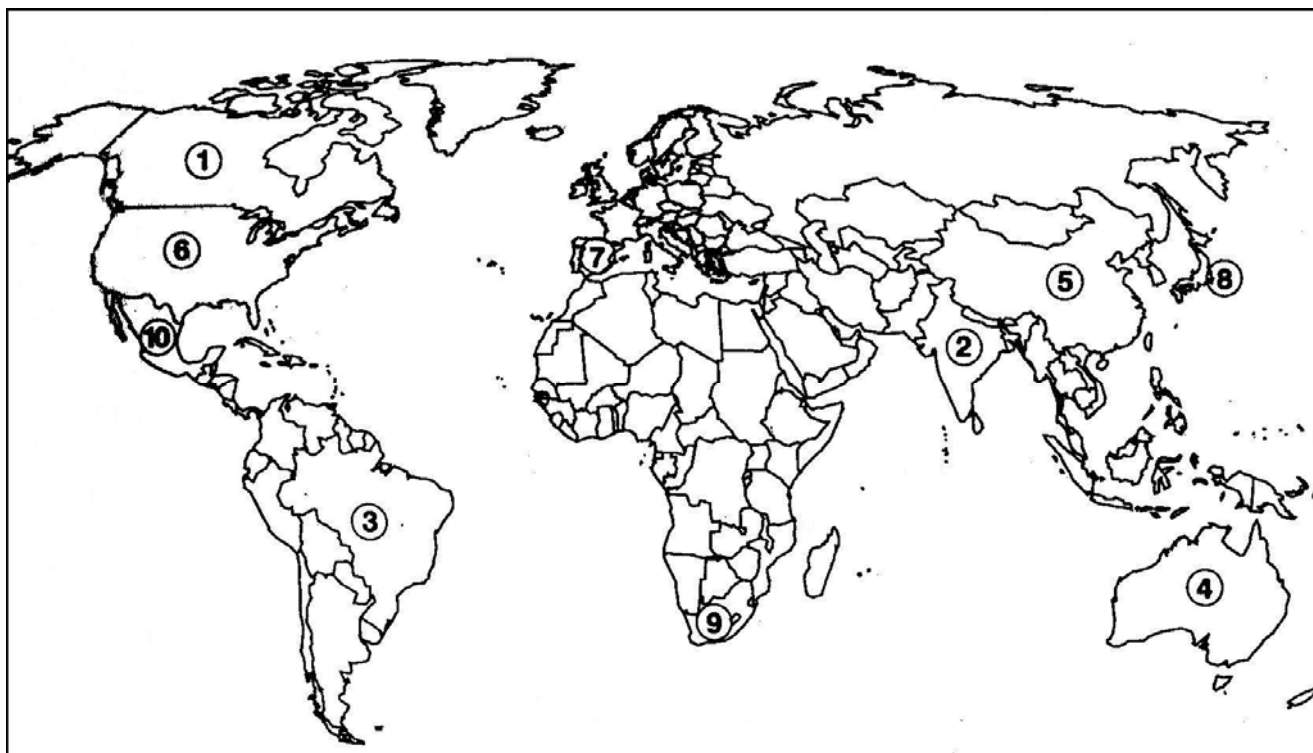
29. В свитъка за свободните отговори напишете за коя страна се отнася следната географска характеристика?

„Тя е островна държава с ограничен природноресурсен потенциал. Населението се характеризира с еднороден етнически състав. Икономически силно развита страна, с водещ стопански отрасъл машиностроенето. Столицата ѝ е част от най-многобройния мегалополис в света.“

30. В свитъка за свободните отговори напишете кой регион в страната е най – голям по площ, по брой на населението и по произведен брутен вътрешен продукт?

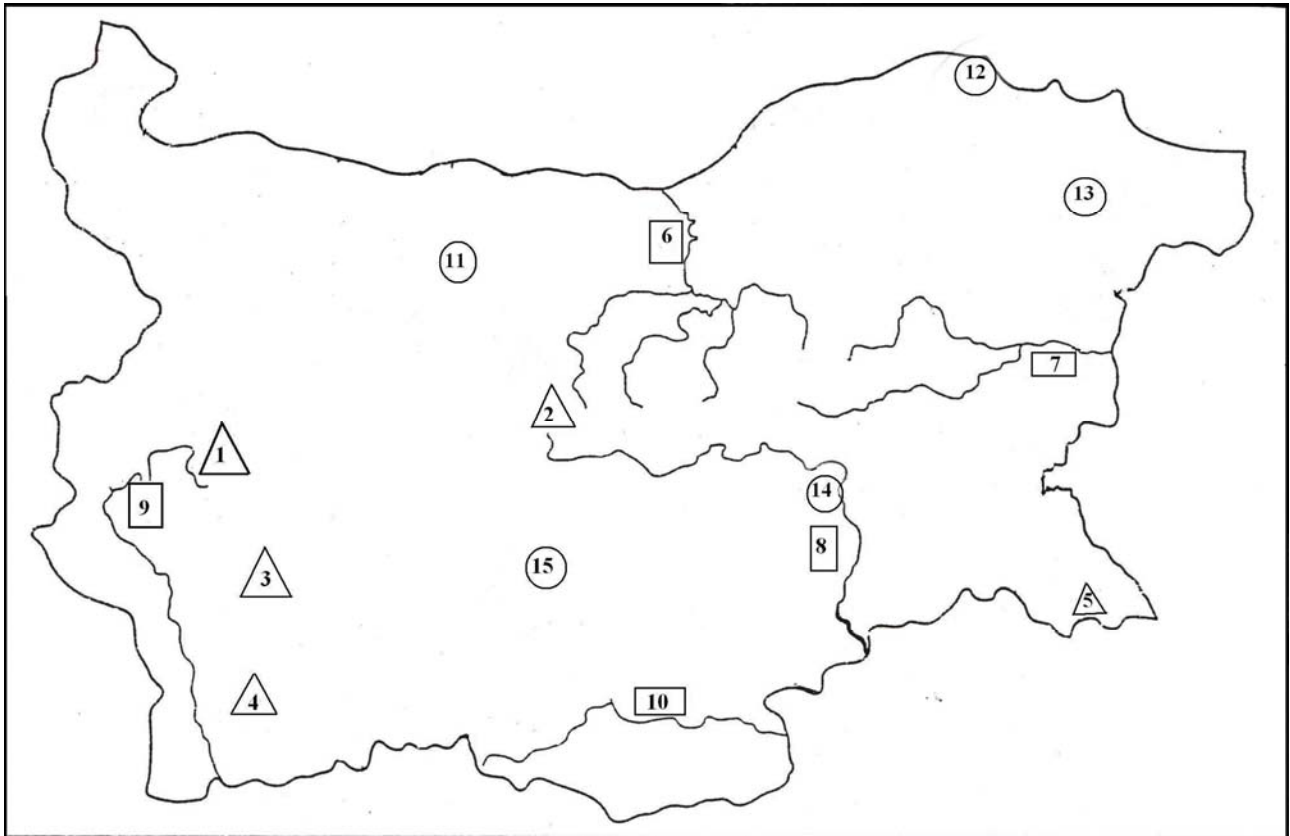
31. Практическа задача по география на света

В свитъка за свободните отговори срещу номера от 1 до 10 напишете имената на съответните държави



32. Практическа задача по география на България

В свитъка за свободните отговори срещу номера от 1 до 5 вкл. напишете името на отбелязаната на картата на България планина, срещу номера от 6 до 10 вкл. напишете името на отбелязаната на картата на България река, а срещу номера от 11 до 15 вкл. напишете името на отбелязания на картата на България областен град.



Писмените разработки напишете в свитъка за свободните отговори на предвиденото за това място!

1. География на света

Обща географска характеристика на Русия

А) Географско положение и големина

Б) Природни условия и ресурси:

- релеф
- полезни изкопаеми
- климат, води, почви и растителност

В) Население и селища:

- брой, гъстота и разпределение
- движение на населението
- структура на населението
- урбанизация и селища

Г) Стопанство:

- обща характеристика
- първичен сектор (земеделие, риболов)
- вторичен сектор: (енергетика, металургия, машиностроене и други отрасли)
- третичен сектор: (транспорт, икономически връзки и други отрасли)

2. География на България

Климатични области в България

А) Умереноконтинентална климатична област:

- Обхват
- Фактори за формиране
- Характеристика на климатичните елементи
- Неблагоприятни климатични явления
- Стопанско значение

Б) Преходноконтинентална климатична област:

- Обхват
- Фактори за формиране
- Характеристика на климатичните елементи
- Неблагоприятни климатични явления
- Стопанско значение

В) Континентално-средиземноморска климатична област:

- Обхват
- Фактори за формиране
- Характеристика на климатичните елементи
- Неблагоприятни климатични явления
- Стопанско значение

Г) Черноморска климатична област:

- Обхват
- Фактори за формиране
- Характеристика на климатичните елементи
- Неблагоприятни климатични явления
- Стопанско значение

Д) Планинска климатична област:

- Обхват
- Фактори за формиране
- Характеристика на климатичните елементи
- Неблагоприятни климатични явления
- Стопанско значение